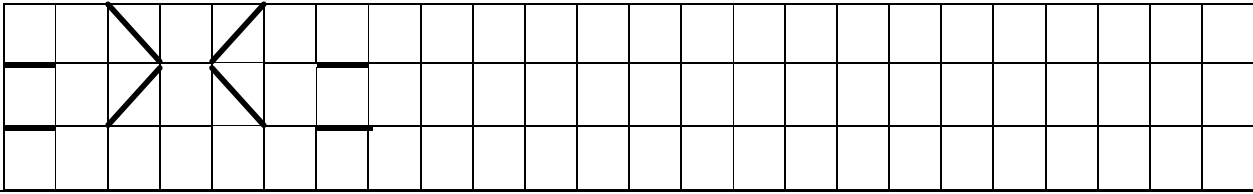


ردیف

۱ مانند نمونه ادامه بده .



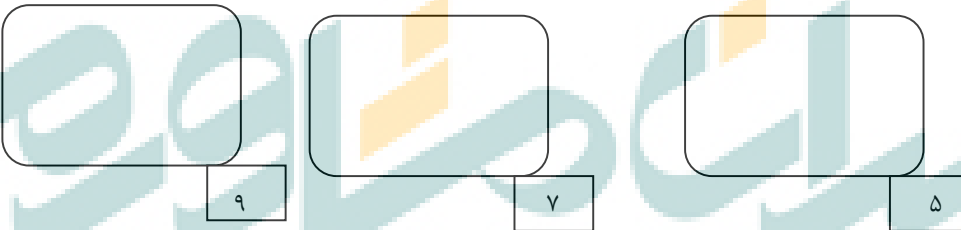
۲ برای شکل زیر یک عبارت تفریق بنویس .



..... - ..... = .....

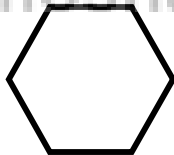
۳ جدول را با شکل مناسب کامل کن .


۴ برای اعداد زیر شکل بکش .



۵ تعداد گوشه های شکل روبرو را بشمارو بنویس .

..... گوشه



۶ مربع های شگفت انگیز را با عددهای مناسب کامل کن .

۳	۴	۱	۲
۱	۲		۴
۴		۲	۳
۲	۳		

۷ جمع و تفریق را انجام بده

$5 + 2 = \text{-----}$

$3 + 4 = \text{.....}$

$5 - 3 = \text{-----}$

$4 - 1 = \text{.....}$

۸ عدد مربوط به هر شکل را زیر آن بنویس .

۹ عدد هر دسته را بنویس و بین دو عددیکی از علامتهای  $>$   $=$   $<$  را بگذار .

\_\_\_\_\_ ○ \_\_\_\_\_

\_\_\_\_\_ ○ \_\_\_\_\_

۱۰ به تعداد عددنوشته شده در ستون ها مربع رنگ کن و عدد ستون های رنگ شده را بنویس .

۲	۵		۷	

۱۱ عدد مربوط به هر شکل را بنویس با چوب خط حساب کن و حاصل جمع را بنویس

\_\_\_\_\_ + \_\_\_\_\_ = \_\_\_\_\_

..... + ..... = .....