

به نام خدا

اداره ی آموزش و پرورش زواره

وزارت آموزش و پرورش

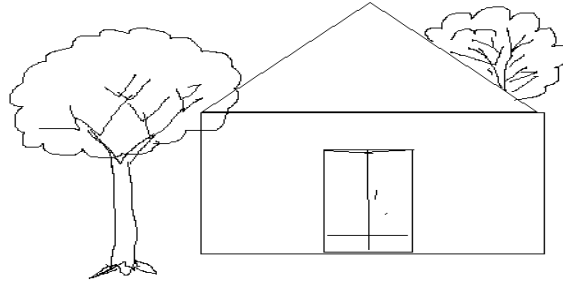
آزمون جامع مدادکاغذی ریاضی

نام و نام خانوادگی :

زمان : 45 دقیقه

کلاس : اول دبستان

1--به سوالات با دقت پاسخ دهید: - درست چپ در خانه، یک پنجره بکشید . روی پشت بام یک دود کش بکشید.
درخت پشت خانه را رنگ کنید.



2- تقارن شکل ها را کامل کنید .



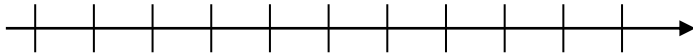
3- الگوها را دامه بدهید.



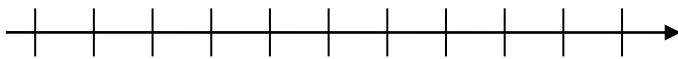
4- حاصل جمع و تفریق های زیر را با رسم شکل و سپس با کمک محور اعداد به دست آورید .

(محور را شماره گذاری کنید .)

$$4+5=$$



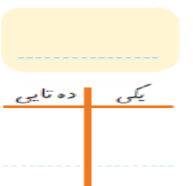
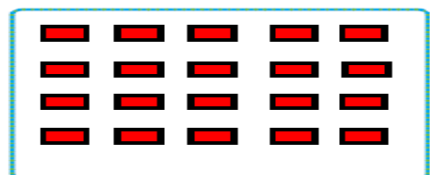
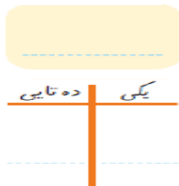
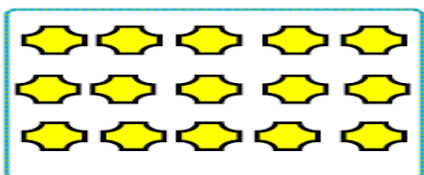
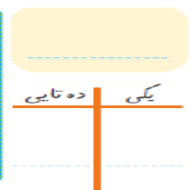
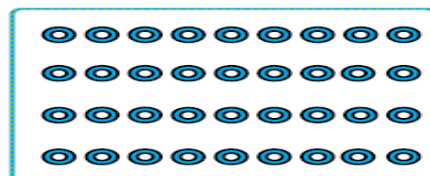
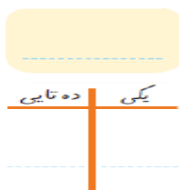
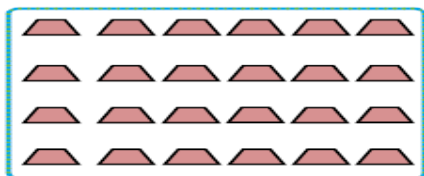
$$9-8=$$



5- بین اعداد زیر یکی از علامت های $<$ $=$ $>$ را قرار دهید .

9 19 47 36 14 17 24 24 10 9 1 0

6- دسته های ده تایی درست کنید و سپس قسمت های مربوطه را کامل نمایید .



7- حاصل جمع و تفریق های زیر را به دست آورید .

$$5+5+5+5+5 =$$

$$10+10+10+10+10=$$

$$25+8=$$

$$6+8=$$

$86-24=$

$32+24=$

$12+24+96-85=$

$18+9=$

9- الگو را ادامه بدهید . (تا 5 عدد) .

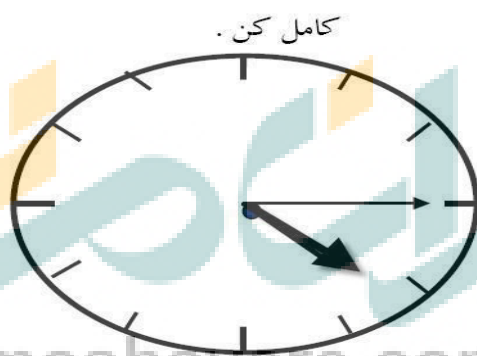
2-4

5-10

4-8

7-14

10- جاهای خالی را کامل کن .



زمان بین ساعت.....و..... می باشد.

ساعت از گذشته است.

11- از 47 تا 59 را ادامه بدهید .

47-

12- جاهای خالی را با توجه به کلمات داخل پرانتز کامل کن . (سبک تر - سنگین تر - بلند تر - کوتاه تر) .

درخت از گل است .

سیب از هندوانه است .

13- حسین 17 بوته ی گوجه فرنگی داشت 8 تا از آن ها خشک شد چند بوته سالم مانده است ؟ (با رسم شکل)