

تاریخ:

نام و نام خانوادگی:.....

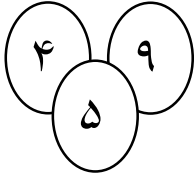
مدت: ۶۰ دقیقه

آزمون ریاضی مداد کاغذی تراکمی پایه دوم

دبستان بنت الهدی صدر

ارزشیابی چهار فصل اول - دی ماه

۱- با کارت های ۴، ۹، ۵، تمام عددهای سه رقمی که می توان نوشت. بنویسید.



بزرگترین عدد:.....

از بین عددهای بالا کوچکترین عدد:.....

۲- جای خالی را کامل کن.

۵ دسته صد تایی، ۴ دسته ده تایی می شود

۷ دسته صد تایی، ۳ دسته ده تایی و ۲ تا یکی می شود.

به عدد:..... به حروف:.....

به عدد:..... به حروف:.....

۲۸

۶۵

۳- حاصل جمع و تفریق های زیر را انجام دهید.

$$\begin{array}{r} 28 \\ + 39 \\ \hline \\ \hline \end{array}$$

$$\begin{array}{r} 65 \\ - 47 \\ \hline \\ \hline \end{array}$$

$$70 - 30 = \dots\dots\dots$$


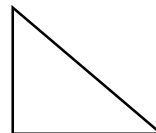
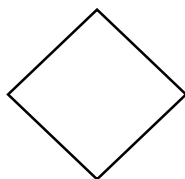

$$200 + 500 = \dots\dots\dots$$

iranmoshavere.com

۴- فاطمه در هفته ی گذشته ۶ سکه ی ۱۰۰ ریالی و ۷ سکه ی ۱۰ ریالی و ۴ سکه ی ۱ ریالی در قلک خود ریخت. حساب کنید فاطمه

چند ریال در قلک خود دارد؟

۵- با رسم برش های لازم، شکل ها را به ۴ قسمت مثل هم تقسیم کنید.

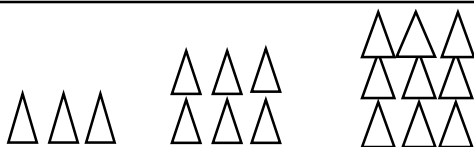


۶- عقربه های ساعت زیر را روی (۷:۱۵) دقیقه رسم کن.

حالا به سوال پاسخ بده؟ به دو صورت بنویس.

۳۰ : ۲ دقیقه دیگر بعد از این ساعت چند است؟.....

.....



۷- الگو یابی کنید و ادامه دهید. (شکل را دو مرحله)

۳ - ۷ - ۱۱ - - - -

۸- شکل های روبرو چه شباهت و چه تفاوتی با هم دارند



شباهت:.....

تفاوت:.....

۹- زهرا ۱۰۵ امتیاز داشت. وقتی که تکالیف ریاضی خود را به آموزگار نشان داد، ۹ امتیاز دیگر گرفت. حالا او چند امتیاز دارد؟

۱۰- کتاب ثمین ۳۲ صفحه دارد. او ۱۹ صفحه از کتابش را خوانده، چند صفحه دیگر را نخوانده است؟

۱۱- اعداد را با حذف رقم یکان و دهگان به صورت تقریب بنویس.

۱۳۴.....

۳۸۵.....

راهنمای توصیف عملکرد:

نیاز به	قابل قبول	خوب	خیلی خوب	انتظارات آموزشی
				۱. عدد های سه رقمی را به رقم و حروف نوشته است (پول).
				۲. عملیات جمع و تفریق را به درستی انجام داده است.
				۳. شکل را به چهار قسمت مساوی کرده است.
				۴. زمان را تشخیص داده و عقربه های ساعت را درست رسم کرده است.
				۵. الگوهای را کشف کرده و ادامه داده است.
				۶. شباهت و تفاوت شکل ها را تشخیص داده است.
				۷. از راهبرد نمادین برای حل مسئله به درستی استفاده کرده است.
				۸. عددها را به درستی تقریب زده است.

باز خورد توصیفی آموزگار:.....

خود سنجی:

۱) آیا از پاسخ دادن به سؤالات آزمون خود راضی هستم؟ چرا؟.....

۲) برای اینکه بیشتر یاد بگیرم باید چه کارهایی انجام بدهم؟.....

نظر والدین:.....