

## شرح سوال

سوال

صدگان	دهگان	یکان
.....	.....	.....

۸۳۲

دهگان	یکان
.....	.....

۵۹

جاهای خالی را کامل کن .

۱

$$۸ + ۱۰ + ۳۰ + ۵ + ۵ = \dots\dots\dots$$

$$۲۰ + ۱۵ + ۳۰ + ۵ + ۱۵ = \dots\dots\dots$$

حاصل جمع های زیر را بدست بیاور .

۲

در جای خالی عدد مناسب بنویس .

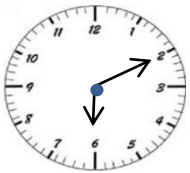
الف ( ۵۲ به چه عددی نزدیک تر است ؟ ۴۰ یا ۵۰ ؟ ) .....

ب ( ۷۹ به چه عددی نزدیک تر است ؟ ۷۰ یا ۸۰ ؟ ) .....

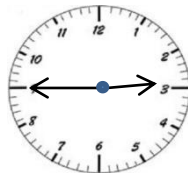
۳

ساعت چند است ؟ بنویس .

۴



ساعت ..... و ..... دقیقه



ساعت ..... و ..... دقیقه

اشکال زیر را رسم کن و تعداد ضلع ها و گوشه های هر یک را بنویس .

۵

دایره	مثلث	مربع	مستطیل	رسم شکل
				تعداد ضلع
				تعداد گوشه



ریال .....



ریال .....



کیسه ها را بشمار و بنویس چند ریال است .

۶

اعداد زیر را به رقم و حروف بنویس .

۶۰۲ .....

پانصد و هفتاد .....

۹۴۰ .....

ششصد و نود و یک .....

۷

حسین ۴۰۰ ریال و مجید ۳۰۰ ریال را در صندوق انداختند . آن ها با هم چند ریال در صندوق انداخته اند ؟

۸

خط های زیر را با خط کش اندازه بگیر و بنویس چند میلی متر است .

..... میلی متر

..... میلی متر

۹

با عدد های ۹، ۲، ۵ تا می توانی اعداد ۳ رقمی بنویس و دور آن هایی که یکان آن ها ۲ است خط بکش .

۱۰

حاصل جمع و تفریق های زیر را بدست بیاور . تکنیکی

فرایندی	تکنیکی	فرایندی	تکنیکی
۶۵۱	۵۹۲	۴۹۲	۴۲۸
+ ۲۳۲	+ ۲۲۱	- ۲۵۱	- ۱۱۹
<hr/>	<hr/>	<hr/>	<hr/>
	.....		.....

۱۱

عدد ها را مقایسه کن و علامت مناسب  $< = >$  بگذار .

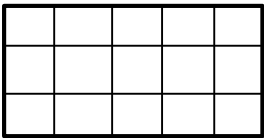
۱۰۰ + ۳۰۰ ○ ۲۰۰ + ۲۰۰

۲۰۰ + ۷ ○ ۲۲۰

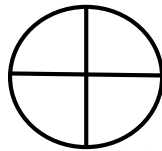
۳۱۶ ○ ۴۱۵

۱۲

با توجه به عبارت نوشته شده ، شکل را رنگ بزن .



۶ قسمت از ۱۵ قسمت



۲ قسمت از ۴ قسمت

۱۳

در جعبه ی مداد رنگی ۲ مداد قرمز ، ۵ مداد آبی و ۳ مداد سبز وجود دارد .

چه کسری از مداد ها قرمز است ؟

چه کسری از مداد ها آبی است ؟

چه کسری از مداد ها سبز است ؟

۱۴

تعداد دانش آموزان شرکت کننده در رشته های ورزشی یک باشگاه به صورت زیر است .

رشته	والیبال	بسکتبال	فوتبال	کاراته	شنا	ژیمناستیک
تعداد	۶۳	۴۸	۳۳	۳۴	۳۸	۲۱
تعداد تقریبی	.....	.....	.....	.....	.....	.....

ابتدا تعداد تقریبی دانش آموزان را بنویس و نمودار را با نشان دادن هر ۱۰ نفر با شکل  کامل کن .



۱۵

ژیمناستیک      شنا      کاراته      فوتبال      بسکتبال      والیبال

باز خورد معلم

خیلی خوب      خوب      قابل قبول      نیاز به تلاش بیشتر

ارزشیابی توصیفی