

باسمه تعالی

وزارت آموز و پرورش اصفهان

منطقه زواره

آزمون مداد کاغذی: ریاضی

طراح: فاطمه مسلمی

تاریخ آزمون:

دبستان: شهید علی اکبر زائری

پایه دوم ابتدایی

زمان آزمون: ۴۵ دقیقه

نام پدر:

نام و نام خانوادگی:

۱- عزیزم با حدس زدن به جای مربع عدد مناسب بگذارید.

$$25 + \square = 68$$

$$43 - \square = 15$$

حدس دوم

حدس دوم

۲- کامل کنید.

۸۶ میلی متر یعنی _____ سانتی متر و _____ میلی متر.

_____ میلی متر یعنی ۶ سانتی متر و ۴ میلی متر.

۹ سانتی متر یعنی _____ میلی متر.

۲ سانتی متر و ۳ میلی متر یعنی _____ میلی متر.

۳- جمع و تفریق های زیر را به روش فرایندی انجام بده.

۳۲۵

iranmoshavere.com

+۲۳۶

+۳۲۶

-۲۱۴

-۲۵۲

۴- یک کتاب داستان ۳۴۲ صفحه دارد. علی ۴۸ صفحه را هفته قبل خوانده بود. این هفته او ۹۷ صفحه ی دیگر را خواند. چند صفحه از کتاب باقی مانده است؟

۵- باز شده ی عدد های زیر را بنویسید.

۸۵۲ =

۴۰۹ =

۷۵۰ =

۳۷۶ =

۶- جمع و تفریق انتقالی زیر را انجام دهید.

۵۴۶

۸۲۴

+ ۲۶۷

- ۳۵۶

باسمه تعالی

وزارت آموز و پرورش اصفهان

منطقه زواره

آزمون مداد کاغذی: ریاضی

تاریخ آزمون:

پایه دوم ابتدایی

نام پدر:

طراح: فاطمه مسلمی

دبستان: شهید علی اکبر زائری

زمان آزمون: ۴۵ دقیقه

نام و نام خانوادگی:

$$۸+۲۰+۳۰۰+۲۰۰+۹+۱۰۰=$$

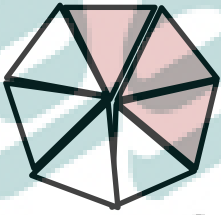
جمع زیر را انجام دهید.



۷- ساعت _____ و _____ دقیقه است.

یعنی _____ دقیقه مانده به _____.


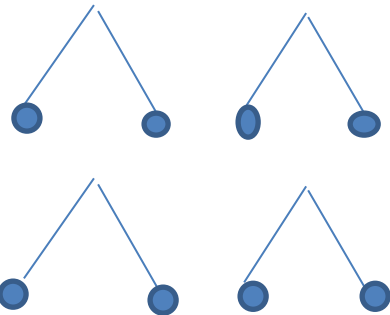
ده دقیقه قبل ساعت _____ و _____ بوده است.



۸- عبارت (کسر) مربوط به هر شکل را بنویس.



۹- با توجه به شکل کامل کن.



_____ دسته ی _____ تایی

_____ دسته ی _____ تایی