

	<p style="text-align: center;">به نام خدا</p> <p>نام و نام خانوادگی : دبستان خیریه ابوظافل (ع)</p> <p>نام پدر : کلاس دوم ب</p> <p>نوبت دوم : تاریخ :</p>
	<p>۱- عدد های زیر را به حروف و رقم بنویسید .</p> <p>دویست و پنجاه و شش ۴۰۴</p>
	<p>۲- جاهای خالی را پر کنید .</p> <p>۸۶۴ برابر است با یکی و ده تایی و صدتایی.</p> <p>کوچک ترین عدد یک رقمی و بزرگ ترین عدد یک رقمی است .</p>
	<p>۳- دنباله ی عدد های زیر را بنویسید .</p> <p>۰ - ۲ - ۴ -</p> <p>۳۰۰ - ۳۰۱ -</p>
	<p>۴- دور عدد های زوج خط بکشید .</p> <p>۱۴ - ۵ - ۱۰ - ۷ - ۲ - ۶ - ۲۳ - ۳۰</p> <p style="text-align: center;">iranmoshavere.com</p>
	<p>۵- زیر عدد های فرد خط بکشید .</p> <p>۱۹ - ۲۰ - ۱۱ - ۲۴ - ۵ - ۱۳ - ۴ - ۷</p>
	<p>۶- جمع و تفریق های زیر را انجام دهید .</p> <p>$۵+۲=$ $۱۲-۵=$ $(۳+۲)+۱=$</p> <p>$۹+۷=$ $۱۵ - ۷=$ $۲+(۴+۳)=$</p>
	<p>۷- جاهای خالی را پر کنید .</p> <p>$\square + \square = ۵$ $۳ - ۷ = ۳$</p> <p>$\square + ۲ = ۱۰$ $۲ - \square = ۰$</p>

۸- با استفاده از محور حاصل تفریق را پیدا کنید .



$$۱۴ - ۸ =$$

۹- در جاهای خالی علامت $<$ $=$ $>$ قرار دهید .


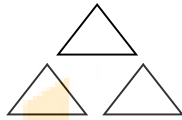
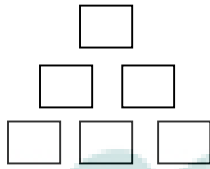
$$۴ + ۲ \square ۹ - ۳$$

$$۱۰۰ \square ۹۹$$

$$۱۶ \square ۶۱$$

$$۵۴۹ \square ۸۰۳$$


۱۰- برای هر شکل دو جمع و دو تفریق بنویسید .



ایستگاه موشاوه
iranmoshavere.com

۱۱- علی ۱۱ مداد داشت. ۴ تای آن را به خواهرش داد. حالا او چند مداد دارد؟

۱۲- ساعت زیر را کامل کنید و ۴:۲۵ را نشان دهید



.... :