

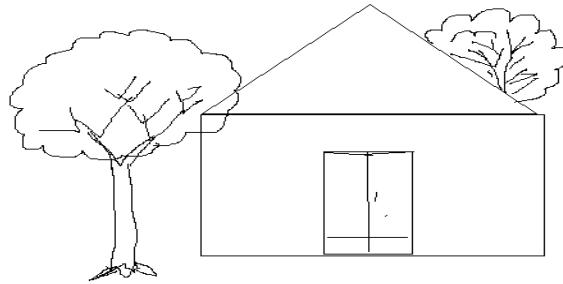
به نام خدا

وزارت آموزش و پرورش

نام و نام خانوادگی :

کلاس : اول دبستان

1-- به سوالات با دقت پاسخ دهید: - درست چپ در خانه، یک پنجره بکشید. روی پشت بام یک دود کش بکشید. درخت پشت خانه را رنگ کنید.



2- تقارن شکل ها را کامل کنید.



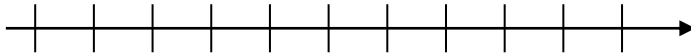
3- الگوها را دامه بدهید.



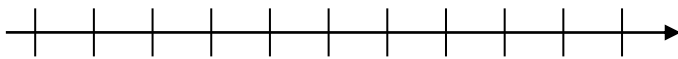
4- حاصل جمع و تفریق های زیر را با رسم شکل و سپس با کمک محور اعداد به دست آورید .

( محور را شماره گذاری کنید . )

$4+5=$



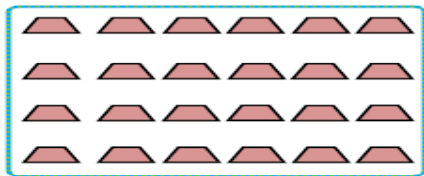
$9-8=$



5- بین اعداد زیر یکی از علامت های  $<$   $=$   $>$  را قرار دهید .

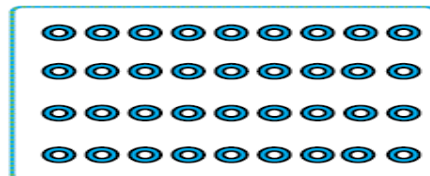
9 19 47 36 14 17 24 24 10 9 1 0

6- دسته های ده تایی درست کنید و سپس قسمت های مربوطه را کامل نمایید .



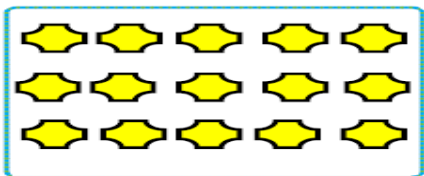
\_\_\_\_\_

یکی
ده تایی



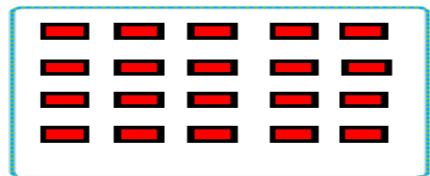
\_\_\_\_\_

یکی
ده تایی



\_\_\_\_\_

یکی
ده تایی



\_\_\_\_\_

یکی
ده تایی

7- حاصل جمع و تفریق های زیر را به دست آورید .

$5+5+5+5+5 =$

$10+10+10+10+10=$

$25+8=$

$6+8=$

$86-24=$

$32+24=$

$12+24+96-85=$

$18+9=$

9- الگو را ادامه دهید . ( تا 5 عدد ) .

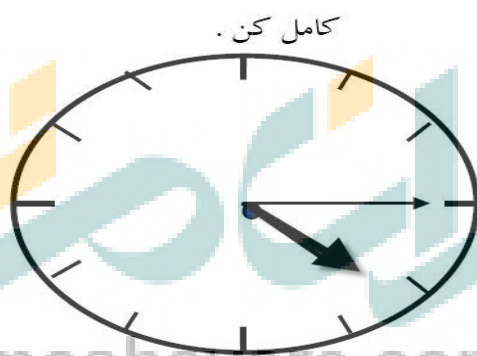
2-4

5-10

4-8

7-14

10- جاهای خالی را کامل کن .



زمان بین ساعت.....و..... می باشد.

ساعت از ..... گذشته است.

11- از 47 تا 59 را ادامه دهید .

47-

12- جاهای خالی را با توجه به کلمات داخل پرانتز کامل کن . ( سبک تر - سنگین تر - بلند تر - کوتاه تر ) .

درخت از گل ..... است .

سیب از هندوانه ..... است .

13- حسین 17 بوته ی گوجه فرنگی داشت 8 تا از آن ها خشک شد چند بوته سالم مانده است ؟ ( با رسم شکل )