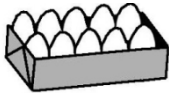
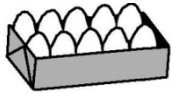


0 0



0 0

۱ باتوجه به شکل جدول را کامل و عدد مربوط را خارج جدول بنویس

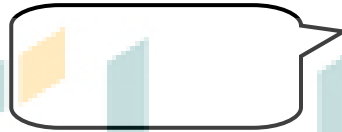
ده تایی	یکی

\_\_\_\_\_

۲ پاسخ جمع ها را به کمک چوب خط بنویس.

$4 + 3 + 3 + 5 = \square$

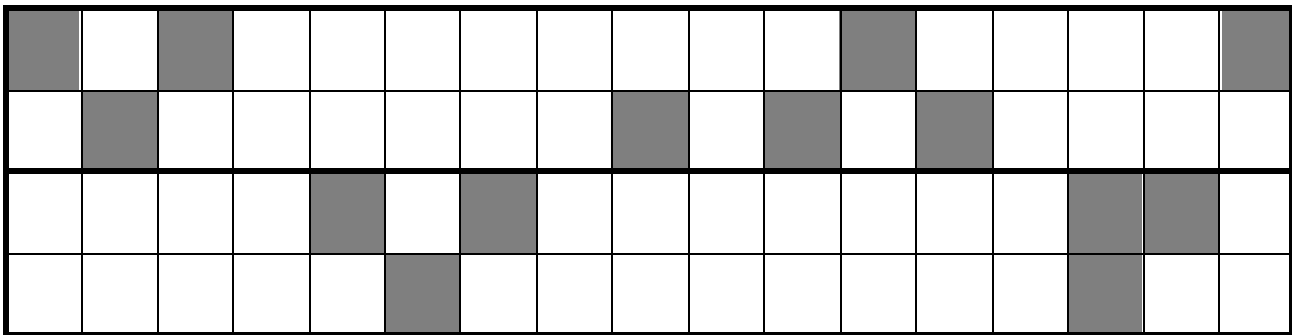
$6 + 7 = \square$



۳ جاهای خالی را با عدد مناسب کامل کن .

۵	۱۰					۳۵			
---	----	--	--	--	--	----	--	--	--

۴ شکل را طوری کامل کن که دونیمه ی آن مثل هم باشد .



۵ جواب هر جمع را به صورت ذهنی حساب کن و بنویس .

$20 + 10 + 5 + 10 = \square$

$10 + 5 - 3 = \square$

۶ دنباله ی عددها را به ترتیب بنویس.

۶۵	۶۶	۶۷							
----	----	----	--	--	--	--	--	--	--

۷ درهر ردیف پاسخ عبارت ها را بنویس ودور علامت مناسب  $\langle = \rangle$  خط بکش.

$20 + 20 = \square$   $\langle = \rangle$   $50 - 20 = \square$

$7 + 5 = \square$   $\langle = \rangle$   $6 + 8 = \square$


۸ با رقم یا حروف بنویس.

هفده		هفتاد و شش	
	۴۹		۹۰

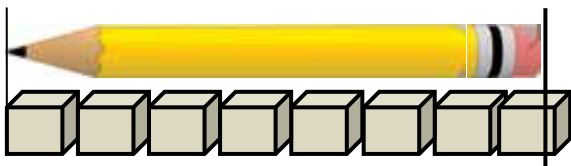
۹ با توجه به شکل جاهای خالی را کامل کن.



..... - ..... = .....



..... + ..... = .....



۱۰ اندازه ی مداد بین ..... و ..... است.

۱۱

مسئله را با چوب خط یا شکل ساده حل کن و عبارت جمع یا تفریق آن را بنویس .

۷ اردک در آب بودند . ۳ اردک دیگر هم به آن ها اضافه شدند .

حالا چند اردک در آب است ؟

حالا..... اردک در آب است

۱۲

مسئله را به کمک محور حل کن . (عبارت جمع یا تفریق آن را هم بنویس)

۱۲ پرنده روی درخت بودند . ۴ تا از پرنده ها پرواز کردند و رفتند .

چند پرنده مانده است ؟



۰ ۱ ۲ ۳ ۴ ۵ ۶ ۷ ۸ ۹ ۱۰ ۱۱ ۱۲ ۱۳ ۱۴ ۱۵

..... پرنده مانده است .

موفق و سربلند  
باشید