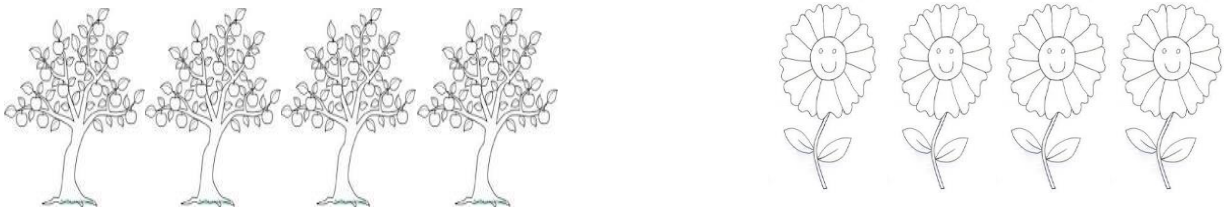





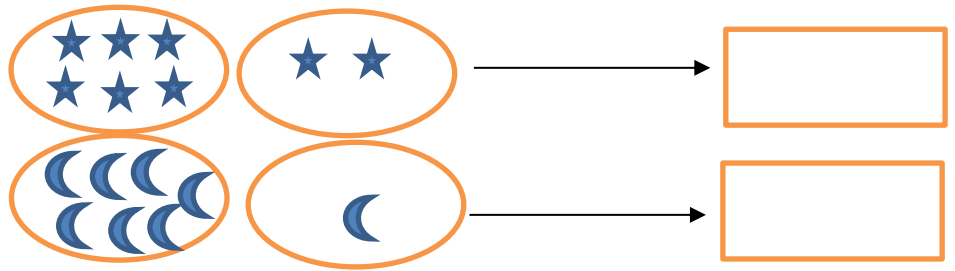


نام درس: ریاضی
نام دبیر: بنفشه رفیعی

جمهوری اسلامی ایران
اداره ی کل آموزش و پرورش شهر تهران
اداره ی آموزش و پرورش شهر تهران منطقه ۲ تهران
پیش دبستان ودبستان پسرانه سرای دانش واحد مرزداران
نمونه سوالات سال تمصیلی ۹۹-۱۳۹۸

نام و نام خانوادگی:
.....
پایه: اول
تعداد صفحه سؤال: ۳ صفحه


ردیف	سؤالات
۱	نازنینم، سومین درخت از سمت راست و دومین گل از سمت چپ را رنگ کن. 
۲	عزیزم، الگوها را ادامه بده.  
۳	پسرم، لبه های شکل های زیر را با مداد قرمز پررنگ کن و تعداد گوشه های آن را در مستطیل زیر آن با چوب خط نشان بده.  
۴	پسر پرتلاشم، جدول ترکیبی زیر را کامل کن. 
۵	در هر گروه از دسته های سمت چپ به تعداد دسته های سمت راست کم کن و تعداد باقی مانده را با چوب خط نشان بده. 

دلبندم، اندازه خط کش به تعداد چند پاک کن است؟ عدد آن را بنویس.



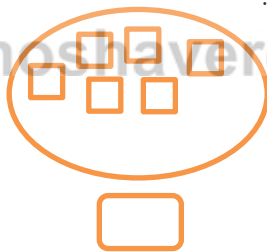
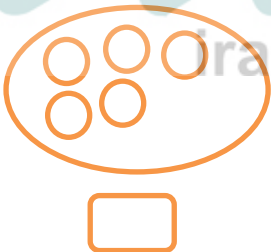
۶

عزیزم، نیمه دیگر شطرنجی را طوری رنگ آمیزی کن که با توجه به خط شکل متفاوتی به دست آید.






۷

گل پسر، به هر دسته دو تا اضافه کن و عدد کل آن ها را بنویس.



۸

دانش آموز عزیزم، در هر دسته چند شکل وجود دارد؟ در زیر شکل علامت کمتر (>) یا بیشتر (<) و یا مساوی (=) قرار بده.



۹

حاصل عبارت های زیر را بنویس پسرم.

$3+4=$

$4+6=$

$2+7=$

۱۰

جدول نظام دار زیر را کامل کن.

۵	

۱۱

نازنین پسرم، جدول سودوکوی زیر را حل کن.

۸	۵	۷	۴	۳			۲	۹
۳		۱	۹	۵	۲	۴	۷	۸
	۴	۲	۶		۸	۳	۱	۵
۴	۱	۵	۲	۶	۷	۹	۸	۳
۲	۹	۶	۵	۸	۳	۷	۴	۱
۷	۳			۹	۴		۵	۶
۱	۲			۴	۶	۵	۳	۷
۵	۸	۳	۷	۲	۹	۱	۶	۴
۶	۷	۴	۳	۱			۹	۲

۱۲

نام درس: ریاضی

نام دبیر: بنفشه رفیعی

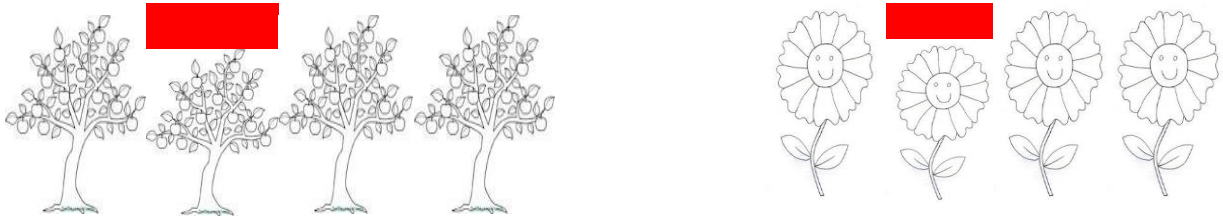
اداره ی کل آموزش و پرورش شهر تهران
اداره ی آموزش و پرورش شهر تهران منطقه ۲ تهران
پیش دبستان و دبستان غیر دولتی پسرانه سرای دانش واحد مرزداران

پاسخ نمونه سوالات سال تمصیلی ۹۷-۹۸

سوالات

شماره

نازنینم، سومین درخت از سمت راست و دومین گل از سمت چپ را رنگ کن.



۱

عزیزم، الگوها را ادامه بده.



۲









پسرم، لبه های شکل های زیر را با مداد قرمز پررنگ کن و تعداد گوشه های آن را در مستطیل زیر آن با چوب خط نشان بده.



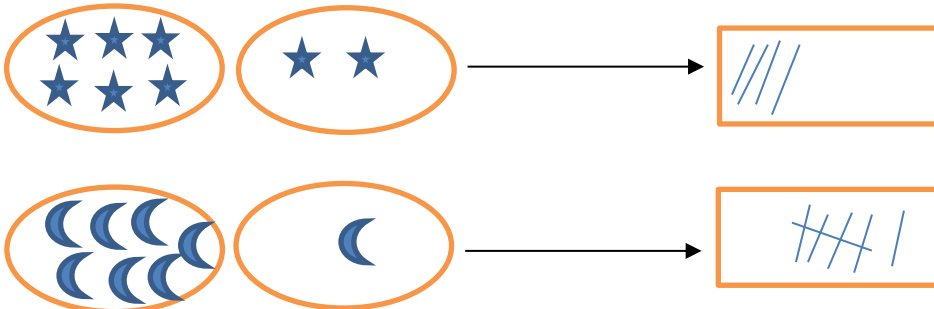
۳

پسر پرتلاشم، جدول ترکیبی زیر را کامل کن.

		
سیب با برگ بالا	سیب با برگ بالا	سیب با برگ بالا
		
گلابی با برگ بالا	گلابی با برگ بالا	گلابی با برگ بالا

۴


در هر گروه از دسته های سمت چپ به تعداد دسته های سمت راست کم کن و تعداد باقی مانده را با چوب خط نشان بده.



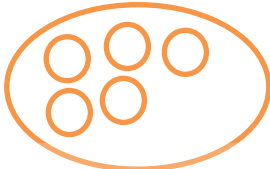
۵

۶ دلبندم، اندازه هر تصویر به تعداد پاک کن است؟ عدد آن را بنویس. ۵

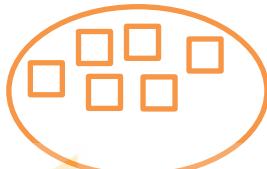
عزیزم، نیمه دیگر شطرنجی را طوری رنگ آمیزی کن که با توجه به خط شکل متفاوتی به دست آید.



گل پسر، به هر دسته دو تا اضافه کن و عدد کل آن ها را بنویس.



۷




۸




۶

دانش آموز عزیزم، در هر دسته چند شکل وجود دارد؟ در زیر شکل وجود دارد؟ در زیر شکل عدد مناسب را بنویس و علامت کمتر (<) بیشتر (>) و یا مساوی (=) قرار بده.



۳ = ۳



۸ < ۹



۵ > ۴

حاصل عبارت های زیر را بنویس پسر.

$$۳+۴=۷$$

$$۴+۶=۱۰$$

$$۲+۷=۹$$

۵

۰	۵
۱	۴
۲	۳

۱۱

جدول نظام دار زیر را کامل کن.

۳	۲
۴	۱
۵	۰

نازنین پسر، جدول سودوکوی زیر را حل کن.

۸	۵	۷	۴	۳	۱	۶	۲	۹
۳	۶	۱	۹	۵	۲	۴	۷	۸
۹	۴	۲	۶	۷	۸	۳	۱	۵
۴	۱	۵	۲	۶	۷	۹	۸	۳
۲	۹	۶	۵	۸	۳	۷	۴	۱
۷	۳	۸	۱	۹	۴	۲	۵	۶
۱	۲	۹	۸	۴	۶	۵	۳	۷
۵	۸	۳	۷	۲	۹	۱	۶	۴
۶	۷	۴	۳	۱	۵	۸	۹	۲