

(بدرخانی)

به نام حضرت حق

نام و نام خانوادگی: آزمون ریاضی کلاس اول دبستان دخترانه شهدای صایران اسفند

۱- جمع ها را روی شکل نشان بده.

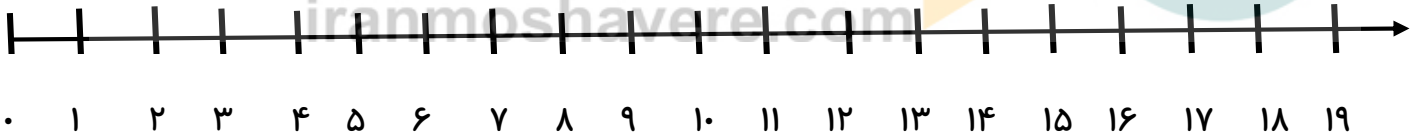


$$۲ + ۳ + ۴ = \text{---}$$

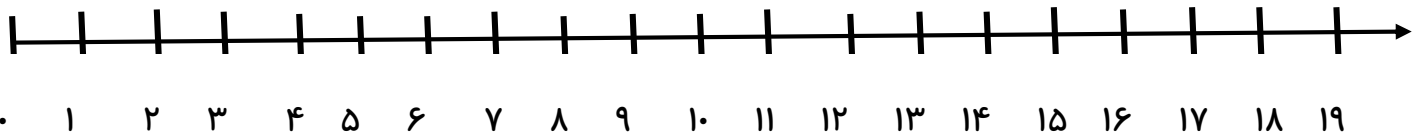


$$\cdot + ۵ + ۲ = \text{---}$$

۲- جمع و تفریق را روی محور نشان بده.



$$۳ + ۳ + ۴ = \text{---}$$



$$۹ - ۶ = \text{---}$$

(بدرخانی)

۳- جمع عدد ۵ را کامل بنویس.

$$\text{---} + \text{---} = ۵$$

$$\text{---} + \text{---} = ۵$$

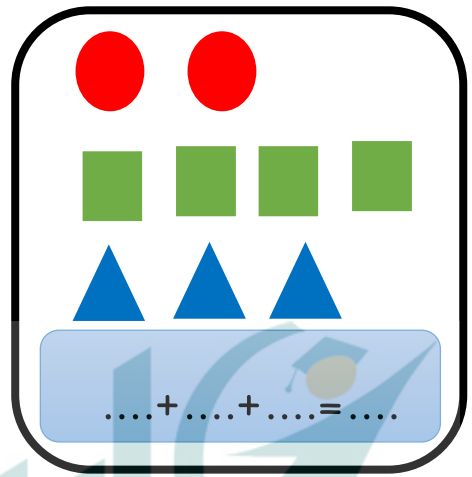

$$\text{---} + \text{---} = ۵$$

$$\text{---} + \text{---} = ۵$$

$$\text{---} + \text{---} = ۵$$

$$\text{---} + \text{---} = ۵$$

۴- پاسخ هر قسمت را بنویس و مقایسه کن و علامت مناسب کمتر و بیش تر را انتخاب کن.



iranmoshavere.com

۵- مربع شگفت انگیز را کامل کن.

۵	۱	۴	۳	۲	۶
۶			۱	۴	۵
۱	۲				۳
۴	۶		۵	۱	۲
۲	۵		۶	۳	۴
۳	۴	۶	۲	۵	۱

(بدرخانی)

۶- دسته های ده تایی درست کن و در جای خالی عدد مناسب بنویس.

ده تایی یکی

.....

..... دسته ده تایی و

..... یکی

۷- الگو را ادامه بده.

■			■		■														
	■			■															
		■		■															
			■																

۸- عدد هر دسته را بنویس.

□ □ □ □

(بدرخانی)

۹- اعداد قبل و بعد را بنویس.

--- _ --- _ ۷ _ --- _ ۹ _ --- _ ۱۱ _ ۱۲ _ --- _ --- _ ---

--- _ --- _ ۲ _ --- _ ۴ _ --- _ ۶ _ ۷ _ --- _ --- _ ---

۱۰- در جای خالی عدد مناسب بنویس.

$7 - 2 = \text{---}$ $5 - 3 = \text{---}$ $9 - 7 = \text{---}$ $10 - 5 = \text{---}$

$4 + 4 = \text{---}$ $1 + 6 = \text{---}$ $5 + 3 = \text{---}$ $6 + 4 = \text{---}$

۱۱- گل های ست راست را رنگ کن.



۱۲- ۴ تا از پروانه ها را رنگ کن و برای آن جمع بنویس.



--- + --- = ---

۱۳- اندازه ی مداد از کوتاه تر است.

