

به نام خدا

نام و نام خانوادگی: .....

آزمون ریاضی فروردین ۹۷

دبستان دخترانه شهدای صائیران

در هر قسمت عددهای مناسب بنویس .

۱- از عدد ۳۶ تا ۴۶ یکی یکی بنویس .


۲- از عدد ۱۰ تا ۱۰۰ ده تا ده تا بنویس .

۳- از عدد ۱۵ تا ۶۰ پنج تا پنج تا بنویس .


۴- از عدد ۶ تا ۳۶ شش تا شش تا بنویس .

iranmoshavere.com

۵- عدد مربوط به هر شکل را با رقم و حروف بنویس .



.....



.....

.....

.....

۶- جواب جمع و تفریق را بنویس ، مقایسه کن و علامت مناسب را انتخاب کن .

$66 - 6 = \square$



$20 + 5 = \square$

$20 - 2 = \square$



$14 + 3 = \square$

$40 + 5 = \square$



$10 + 37 = \square$

۷- سارا و نرگس کوچولو می خواهند بازی کنند . سارا ۵ بادکنک و نرگس کوچولو ۴ بادکنک

داشت . آن دو روی هم چند بادکنک دارند ؟

.....

iranmoshavere.com

۸- جاهای خالی را پر کن .



زمان بین ..... و ..... است



زمان بین ..... و ..... است .

۹- جاهای خالی را با عدد مناسب کامل کن .

$$\begin{array}{ccccccc} - & - & - & - & 30 & - & 36 \\ & & & & \downarrow & & \downarrow \\ & & & & -6 & & -6 \end{array}$$

۱۰- سارا و نرگس می خواستند لباس های خود را زیر آفتاب خشک کنند . سارا ۱۰ لباس و

نرگس ۴ لباس را روی طناب آویزان کردند . حالا چند لباس روی طناب است ؟

..... لباس روی طناب بود .



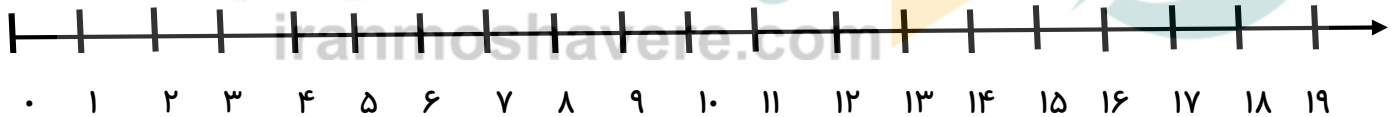
$$- - - + - - - = - - -$$

۱۱- جاهای خالی را با اعداد مناسب کامل کن .

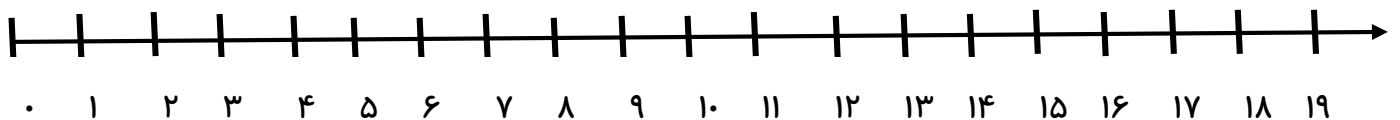
$$۲۰ + ۱۰ + ۵ + ۵ = \square$$

$$۱۰ + ۲۰ + ۵ + ۴ = \square$$

۱۲- جمع و تفریق را روی محور نشان بده .



$$۶ + ۷ = \dots$$



$$۱۳ - ۵ = \dots$$