

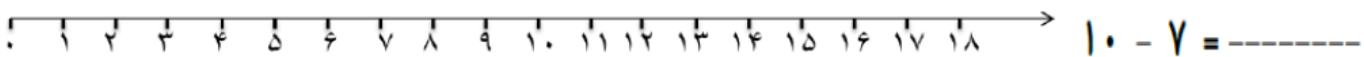
۱- پسر گلم جاهای خالی را با عدد مناسب پر کن.

The image shows two boxes, each containing 10 yellow pencils. To the right is a place value chart with a vertical line and a horizontal line. The top-left cell is labeled 'یکی' (one) and the top-right cell is labeled 'ده تایی' (ten). Below the horizontal line is a dashed line, and below that is a solid line. To the right of the chart is a yellow rectangular area.

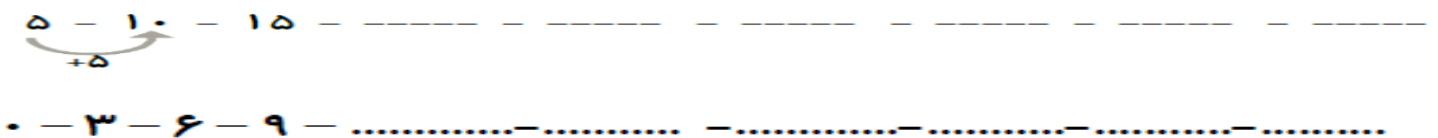
۲- عزیزم پاسخ هر قسمت را بنویس و مقایسه کن و علامت کمتر و بیشتر را انتخاب کن.

The image shows two boxes. The left box contains a 2x5 grid of yellow squares. The top row has 5 squares, and the bottom row has 5 squares. The first square in the bottom row is crossed out with an 'X'. Below the grid is a dashed line followed by an equals sign. The right box contains a math problem: $3 + 2 =$ followed by a dashed line. There are some scribbles above the numbers. Between the two boxes is a pink box containing a red less-than sign (<) and a red greater-than sign (>).

۳- عزیز دلم به کمک محور جمع یا تفریق کن.



۴- پسر گلم الگوهای زیر را ادامه بده.






۵- عزیزم حاصل جمع های زیر را بدست بیاور و چوب خط آن را بگذار.





 $9 + 8 = \underline{\quad}$




 $4 + 2 + 5 + 3 =$

۶- عزیز دلم برای جدول زیر شکل بکش.

یکی	ده تایی
۳	۹

یکی	ده تایی
۷	۴

۷- گل پسرمان ساعت های زیر را بنویس.



۸- گل پسرمان حروف را به عدد تبدیل کن.

چهل و سه	نوزده	یازده
پنجاه و هفت	سی و یک	بیست

۹- گل پسرمان جاهای خالی را پر کن.

$20 + 5 + 10 - 10 = \underline{\quad}$
 $10 + 5 + 3 = \underline{\quad}$

$20 + 20 + 10 + 5 = \underline{\quad}$
 $10 + 20 + 5 + 4 = \underline{\quad}$

۱۰- عزیز دلم چوپانی ۸ گوسفند داشت، صاحب گله ۹ گوسفند دیگر را از بازار خرید و به چوپان داد. حالا چوپان چند گوسفند را نگهداری می کند؟