

نام درس: ریاضی

نام دبیر:



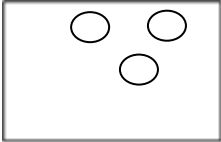
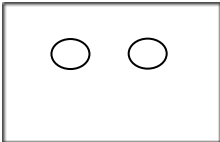




دبیرستان غیردولتی پسرانه سرای دانش واحد سعادت آباد

نمونه سوالات سال تمصیلی ۹۹-۱۳۹۸


نام و نام خانوادگی: .....

مقطع: اول دبستان

تعداد صفحه سؤال: ۳ صفحه


سؤالات	نمره
<p>دسته هایی که تعداد شکل هایشان مثل هم است را با خط کش به هم وصل کنید.</p> <div style="display: flex; justify-content: space-around;"><div style="border: 1px solid black; padding: 5px;"></div><div style="border: 1px solid black; padding: 5px;"></div></div> <div style="display: flex; justify-content: space-around; margin-top: 20px;"><div style="border: 1px solid black; padding: 5px;"></div><div style="border: 1px solid black; padding: 5px;"></div></div>	۱
<p>به تعداد شکل سمت چپ از شکل سمت راست جدا کن و رنگ بزن.</p> <div style="display: flex; justify-content: space-around; align-items: center;"><div style="text-align: center;"></div><div style="text-align: center;"></div><div style="text-align: center;"></div><div style="text-align: center;"></div></div>	۲
<p>الگو را یک بار ادامه بده.</p> <div style="display: flex; align-items: center; margin-bottom: 10px;"><div style="border: 1px solid black; width: 40px; height: 40px; margin-right: 10px;"></div><div style="border: 1px solid black; width: 60px; height: 60px; margin-right: 10px; transform: rotate(45deg);"></div><div style="border: 1px solid black; width: 40px; height: 40px; margin-right: 10px;"></div></div> <hr style="border: 0.5px solid black;"/>	۳
<p>شکل های زیر چند گوشه دارد؟ با رنگ کردن نشان بده.</p> <div style="display: flex; justify-content: space-around; align-items: center;"><div style="border: 1px solid black; width: 100px; height: 100px; transform: rotate(45deg); margin-right: 50px;"></div><div style="border: 1px solid black; width: 100px; height: 100px; margin-right: 50px;"></div><div style="border: 1px solid black; width: 150px; height: 60px;"></div></div>	۴

با کشیدن چوب خط نشان بده شکل سمت چپ و راست روی هم چندتا هستند.




۵

دور عدد درست یک خط بکش.




۶

مربع های شگفت انگیز را با عددهای مناسب کامل کنید.




۷

با استفاده از خط کش، خطی بکشید که شکل ها به دو نیمه مثل هم تبدیل شوند.



۸



از عدد ۱ تا ۹ به ترتیب بنویس .




۹

عددهای هر دسته را در جای مناسب بنویسید.

۱۰

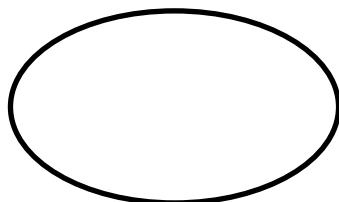



اندازه گل، چندتا مستطیل است؟



۱۱

عددهای هر دسته را بنویس و علامت مناسب بگذار.



۱۲

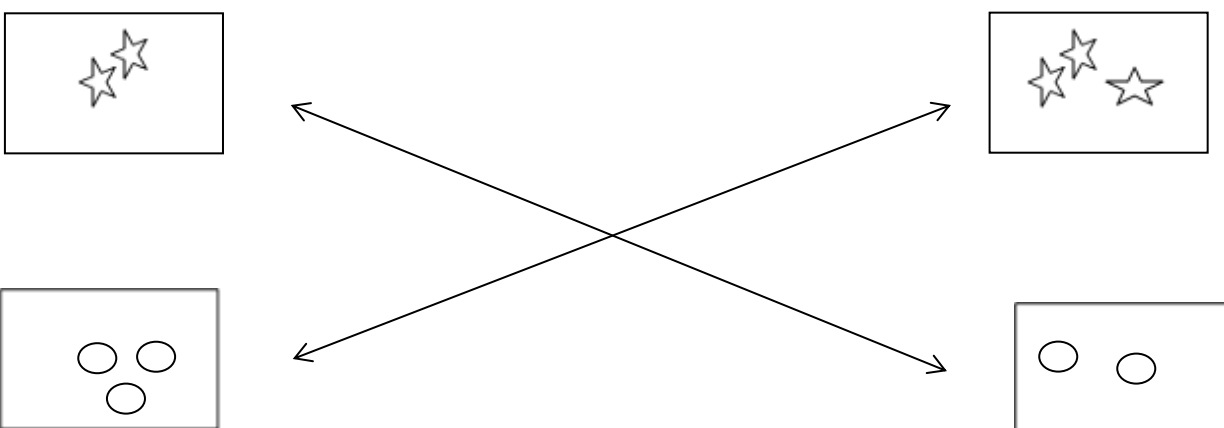



نام درس: ریاضی

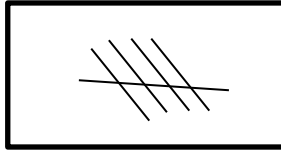
نام دبیر: .....

دبیرستان غیر دولتی پسرانه سرای دانش واحد سعادت آباد

کلید نمونه سوالات سال تحصیلی ۹۸-۹۷



کلید	ردیف
	۱
	۲
	۳
	۴




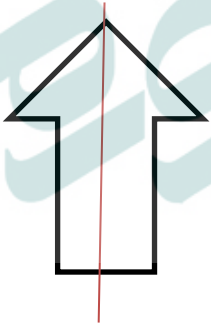
۵



۶

۳	۴	۲	۱
۱	۲	۳	۴
۴	۳	۱	۲
۲	۱	۴	۳

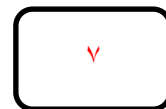
۷



۸

۱	۲	۳	۴	۵	۶	۷	۸	۹
---	---	---	---	---	---	---	---	---

۹

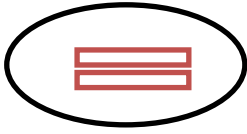


۱۰

۹ تا مستطیل

۱۱

۳



۳

۱۲