


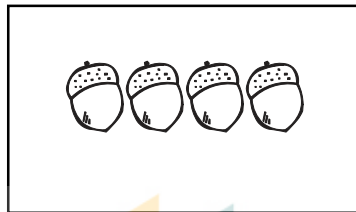


۱- دخترم شکل های سمت چپ و سمت راست روی هم چند تا می شود با چوب خط و عدد نشان بده.



۲- نازنینم دور عدد درست خط بکش.



۵ ۳ ۶

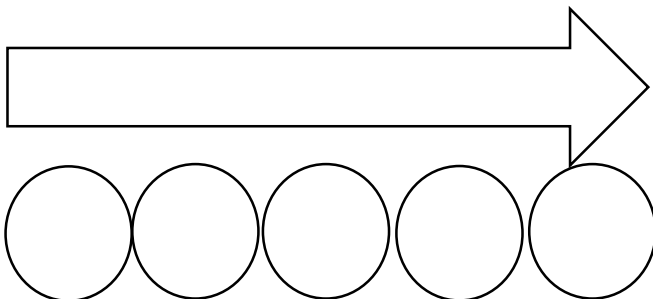
۴ ۶ ۲

۸ ۵ ۷

۳- عزیزم دور دسته ی بیشتر خط بکش.

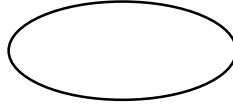

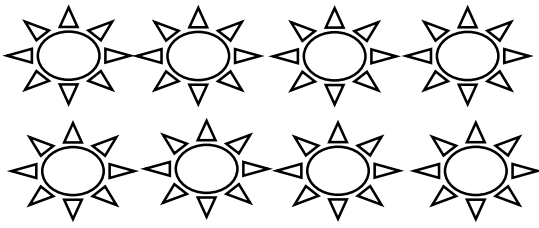


۴- طول فلش چندتا دایره است؟ عدد ان را بنویس.



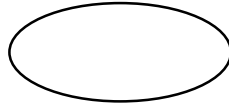


تا.....

۵- عدد هر دسته را بنویس و یکی از علامت های $>$ $=$ $<$ را بگذار.



.....

.....



.....

.....

جدول شگفت انگیز را کامل کن.

	۱	۳	۵	۴
۳	۲		۴	۱
۴		۲	۱	۵
۵	۴	۱		۳
۱	۵	۴	۳	

نیاز به تلاش	قابل قبول	خوب	خیلی خوب	
				چوب خط را درک کرده است.
				مفهوم عدد و تعداد را درک کرده است.
				مفهوم کمتر و بیشتر را درک کرده است.
				جدول شگفت انگیز را درک کرده است.