



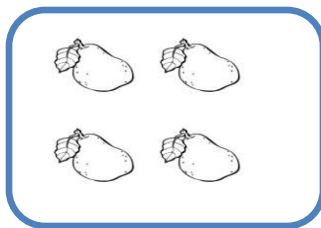
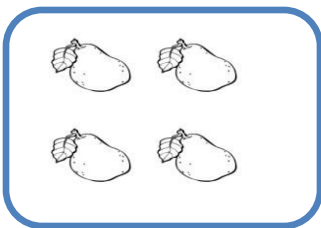



۱- عزیزم با کشیدن چوب خط نشان بده شکل های سمت چپ و راست با هم چند تا هستند و عدد مناسب را بنویس؟








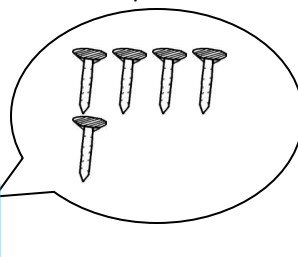


۲- نازنینم اگر به تعداد شکل های سمت راست از شکل های سمت چپ برداریم چند تا می ماند عدد آن را بنویس.







iranmoshavere.com



۳- اگر به شکل های هر دسته یک (۱) شکل اضافه کنیم چه عددی را نشان می دهد بنویس.



۴-باهش من عدد هر دسته را بنویس و علامت ($< = >$) بگذار.

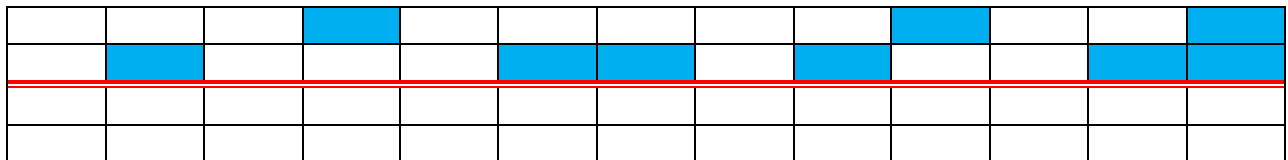


۵-دو عدد بنویس که جمع آن ها برابر با عدد بالای ستون باشد.

۳	

۴	

۶-شکل را طوری کامل کن که دو نیمه آن مثل هم باشد.



بازخورد آموزگار: