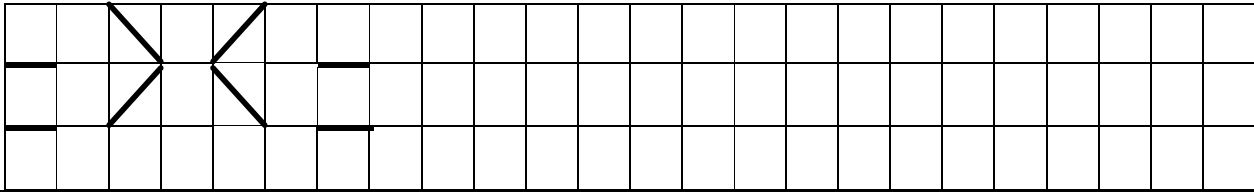


نام و نام خانوادگی : آزمون ریاضی پایه اول ابتدایی دبستان غیردولتی پسرانه کوشا (کلاله) دیماه ۹۶

ردیف

۱ مانند نمونه ادامه بده .



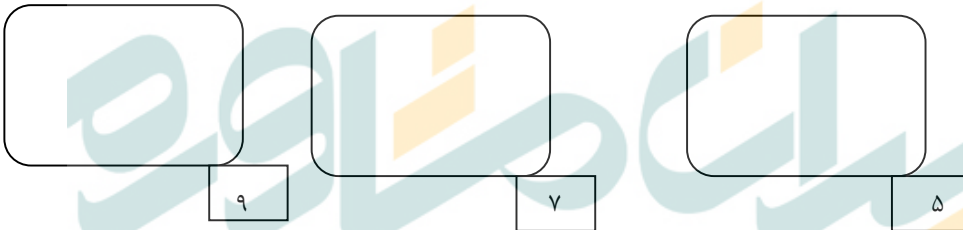
۲ برای شکل زیر یک عبارت تفریق بنویس .



..... - =

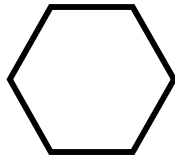
۳ جدول را با شکل مناسب کامل کن .

۴ برای اعداد زیر شکل بکش .



۵ تعداد گوشه های شکل روبرو را بشمارو بنویس .

..... گوشه



۶ مربع های شگفت انگیز را با عددهای مناسب کامل کن .

۳	۴	۱	۲
۱	۲		۴
۴		۲	۳
۲	۳		

۷ جمع و تفریق را انجام بده

$$5 + 2 = \text{-----}$$

$$3 + 4 = \text{.....}$$

$$5 - 3 = \text{-----}$$

$$4 - 1 = \text{.....}$$

۸ عدد مربوط به هر شکل را زیر آن بنویس .

۹ عدد هر دسته را بنویس و بین دو عددیکی از علامتهای $>$ $=$ $<$ را بگذار .

_____ ○ _____

_____ ○ _____

۱۰ به تعداد عددنوشته شده در ستون ها مربع رنگ کن و عدد ستون های رنگ شده را بنویس .

۲	۵		۷	

۱۱ عدد مربوط به هر شکل را بنویس با چوب خط حساب کن و حاصل جمع را بنویس

نتیجه ی توصیفی ارزشیابی از آزمون : موفق باشید : سلطانی - قربانی