






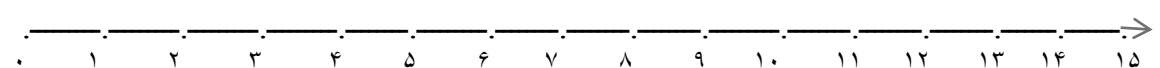
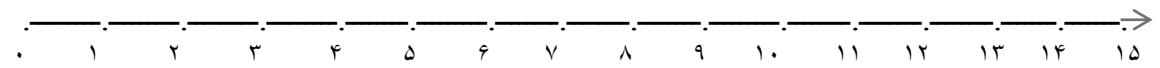
نام و نام خانوادگی :

به نام خدا


نمونه آزمون ریاضی پایه اول


اردیبهشت ماه ۹۱


<p>جاهای خالی را طبق نمونه های داده شده ادامه بده.</p> <p> (۱۵) (۲۰) (.....) (.....) (.....) (۶۲) (۶۴) (.....) (.....) (.....) (.....) (.....) (.....) (۱۵) (۱۸) (.....) (.....) (.....) (۳۰) (۳۵) </p>	<p>۱</p>
<p>جمع های زیر را با استفاده از چوب خط و مداد رنگی حل کن.</p> <p> $۴ + ۵ + ۸ = \dots\dots\dots$ $۹ + ۳ + ۶ = \dots\dots\dots$ </p>	<p>۲</p>
<p>علامت مناسب $>$ $=$ $<$ بگذار.</p> <p>  $۱۹ \bigcirc ۹۱$  $۴۰ \bigcirc ۱۰+۱۰$  $۲۰ + ۵ \bigcirc ۳۵$  $۷+۳ \bigcirc ۵+۵$ </p>	<p>۳</p>
<p>علی ۱۴ جوجه زرد و سیاه خرید. ۵ تا از جوجه ها سیاه و بقیه زرد بودند. تعداد جوجه های زرد را بنویسید. (با شکل هم نشان بده)</p>	


<p>جمع های زیر را انجام بده.</p> <p>$۲۰ + ۱۰ + ۵ + ۵ = \dots\dots\dots$</p> <p>$۲۵ + ۵ + ۵ + ۵ + ۳ = \dots\dots\dots$</p>	<p>$۱۰ + ۵ + ۱۰ + ۱۰ = \dots\dots\dots$</p> <p>$۱۰ + ۲۰ + ۲۰ = \dots\dots\dots$</p>	<p>۵</p>
<p>محمد ۱۶ مرغ و خروس و جوجه دارد. ۶ تا از آن ها مرغ و ۴ تا خروس هستند. تعداد مرغ و خروس ها چند تاست؟ تعداد جوجه ها چند تاست؟</p> <p>تعداد مرغ و خروس ها</p> <p>تعداد جوجه ها</p>		<p>۶</p>
<p>ساعت چند است.</p>  <p>ساعت ۳ را با عقربه نشان بده</p>		<p>۷</p>
<p>جمع و تفریق زیر را روی محور نشان بده.</p> <p>$۳ + ۴ + ۵ = \dots\dots$</p>  <p>$۱۴ - ۳ = \dots\dots$</p> 		<p>۸</p>

تفریق های زیر را انجام بده.

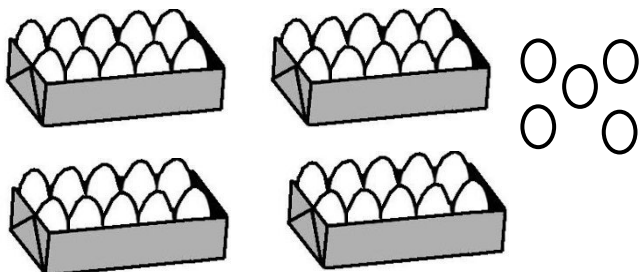
$10 - 3 =$ 

$9 - 5 =$ 

$12 - 7 =$ 

$8 - 3 =$ 

۹



جاهای خالی را با عدد مناسب کامل کن.


یکی	ده تایی

به رقم

به حروف

۱۰

نمونه الگو داده شده را در قرینه آن بکش.



۱۱

جدول سودوکو زیر را کامل کن.

۶	۲	۹	۸	۳	۷	۱	۴	۵
۷	۸	۱	۴	۹	۵	۳	۲	۶
۴	۳			۶			۹	۷
۵	۷			۴			۸	۱
۹	۴	۶	۳	۱	۸	۷	۵	۲
۸	۱			۵		۶	۳	۴
۲	۹			۸			۶	۳
۱	۶	۸	۵	۲	۳	۴	۷	۹
۳	۵	۴	۹	۷	۶	۲	۱	۸

۱۲

..... باز خورد آموزگار :
