
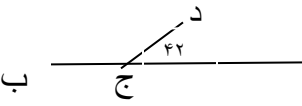



|   | <p>نام و نام خانوادگی : نام پدر : آزمون ریاضی پایه ی پنجم دبستان تاریخ : بسمه تعالی</p>   |
|---|---|
| ۱ | <p>با توجه به عدد ۲۰۳۸۶۰۷۴۲۰۹ به پرسش های زیر پاسخ دهید .<br/> الف) عدد را به حروف بنویسید .<br/> ب) بیش ترین و کم ترین ارزش مکانی را کدام عددها دارند ؟<br/> ج) کدام رقم در مرتبه ی دهگان میلیون قرار دارد ؟</p>   |
| ۲ | <p>باقی مانده ی تقسیم ۴۲۹ بر ۳ مثل باقی مانده ی تقسیم ..... است بر ۳ ، یعنی ..... ، پس ۴۲۹ بر ۳ بخش پذیر ..... .</p>  |
| ۳ | <p>کسر و عدد مخلوط مربوط به شکل را بنویسید .<br/> کسر : ..... عدد مخلوط : .....</p>    |
| ۴ | <p>کدام یک از عددهای زیر هم بر ۲ و هم بر ۳ و هم بر ۵ بخش پذیر هستند ؟<br/> ۵۷۰ - ۹۶۳۰ - ۲۳۰۰ - ۱۰۴۵ - ۵۷۰</p>   |
| ۵ | <p>مقایسه کنید و در <input type="checkbox"/> علامت مناسب بگذارید . یک سوم زاویه ی نیم صفحه <input type="checkbox"/> زاویه ی ۶۰ درجه<br/> ۴۰/۳۸ <input type="checkbox"/> ۴۰/۳۸۰۰ <input type="checkbox"/> ۵۸° <input type="checkbox"/> ۴۵° <input type="checkbox"/> ۳ ۹ <input type="checkbox"/> 36/6 <input type="checkbox"/> ۶<br/> ۹۸/۳۰ <input type="checkbox"/> ۹۸/۰۳ <input type="checkbox"/> 6/3 <input type="checkbox"/> 3/10 <input type="checkbox"/> ۳/۷۵ متر <input type="checkbox"/> ۳۷۵ سانتی متر</p> |
| ۴ | <p>دو سوم ۱۲ تا یعنی ..... تا ( با رسم شکل )</p>  |
| ۵ | <p>در جای خالی عدد یا کلمه ای مناسب بنویسید .<br/> فاصله ی بین شهرها را با وسیله ای به نام ..... و با واحد ..... اندازه گیری می کنند .<br/> به یک سوم ..... می گویند . ۰/۶ هکتار برابر ..... متر مربع می باشد .<br/> کیلو متر مربع مساحت مربعی است به ضلع ..... متر . گسترده ی چهار وجهی منتظم از .... مثلث ..... درست شده .</p>  |
| ۶ | <p>رضا سه پنجم از کتاب خود را خوانده است . او چند درصد از کتاب را خوانده است ؟</p>  |
| ۷ | <p>زمینی است به شکل مثلث که قاعده ی آن ۸۰۰ متر و ارتفاع آن ۵۰۰ متر می باشد . مساحت آن چند هکتار است ؟<br/> اگر از هر هکتار ۵۸۰ کیلو گرم محصول برداشت شود محصول کل زمین چه قدر است ؟</p>   |
| ۸ | <p>علی ساعت ۳۵ ۴۰ ۷ صبح از منزل خارج و پس از ۵۰ ۴۲ ۳ به منزل برگشت . او در چه ساعتی به منزل برگشت ؟</p>   |

|    |   |
|----|---|
| ۹  | با حروف و رقم بنویسید .<br>چهل و سه و هفده هزارم ..... ، ۴/۰۳ .....   |
| ۱۰ | با توجه به شکل اندازه ی زاویه ی (د ج ب) را به دست آورید . (راه حل را بنویسید .)<br> |
| ۱۱ | قرینه ی شکل را نسبت به خط (ک ز) رسم کنید .<br>                                      |
| ۱۲ | قیمت یک جلد کتاب ۲۴۰۰ تومان است. آن را با ۲۵ درصد تخفیف خریدیم. چند تومان برای خرید آن پرداختیم؟  |
| ۱۳ | در یک جعبه به حجم ۷۲۰ سانتی متر مکعب چند قوطی به ابعاد ۵ و ۳ و ۲ سانتی متر جای می گیرد؟   |
| ۱۴ | $\frac{3}{5}$ از $\frac{1}{2}$ دور یک باغچه را سیم خاردار کشیده اند . چند درصد از دور آن را سیم خاردار کشیده اند؟   |
| ۱۵ | محیط مثلثی $6\frac{2}{5}$ متر است اگر طول دو ضلع آن $3\frac{1}{2}$ و $2\frac{1}{2}$ متر باشد، اندازه ضلع سوم آن چه قدر است؟   |
| ۱۶ | احمد با دوستانش دور میدانی به شکل دایره که شعاع آن ۵۰ متر می باشد سه دور دویدند . آن ها چند متر دویده اند؟  |
| ۱۷ | در داخل <input type="text"/> عدد مناسب بنویسید .<br>$7 = \frac{\square}{9}$ $\frac{36}{6} = \frac{\square}{2} = \square$ $0 \frac{3}{7} = \frac{\square}{7}$        |