

باسمه تعالی

نام و نام خانوادگی :

نام پدر :

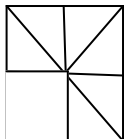
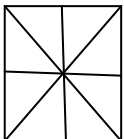
کلاس : پنجم

دبستان :

تاریخ :

نام درس : ریاضی

ردیف	سوالات	بارم
۱	<p>حاصل تقریبی ضرب ۲۳×۴۸ کدام است؟</p> <p>الف - ۸۰۰ <input type="checkbox"/> ب - ۵۰۰ <input type="checkbox"/> ج - ۹۰۰ <input type="checkbox"/> د - ۱۰۰۰ <input type="checkbox"/></p> <hr/> <p>خمس عدد ۴۰ کدام است؟</p> <p>الف - ۱۰ <input type="checkbox"/> ب - ۱۵ <input type="checkbox"/> ج - ۸ <input type="checkbox"/> د - ۲۰ <input type="checkbox"/></p> <hr/> <p>واحد مربوط به عدد مخلوط $۳ \frac{۳}{۵}$ کدام است؟</p> <p>الف - $\frac{۳}{۴}$ <input type="checkbox"/> ب - $\frac{۳}{۵}$ <input type="checkbox"/> ج - $\frac{۳}{۳}$ <input type="checkbox"/> د - $\frac{۳}{۵}$ <input type="checkbox"/></p> <hr/> <p>کدام عدد هم بر ۳ و هم بر ۹ بخش پذیر است؟</p> <p>الف - ۱۲۰ <input type="checkbox"/> ب - ۲۱۳ <input type="checkbox"/> ج - ۷۰۸ <input type="checkbox"/> د - ۵۰۴ <input type="checkbox"/></p>	۲
۲	<p>جاهای خالی را کامل کنید.</p> <p>الف - فاصله بین شهرها و کشورها را با واحدی به نام اندازه گیری می کنند.</p> <p>ب - ۴ تا $\frac{۹}{۵}$ یعنی</p> <p>ج - زمین های کشاورزی را با واحدی به نام اندازه گیری می کنند.</p> <p>د - اعدادی که یکان آن ۰ یا ۵ باشد بر بخش پذیر است.</p>	۱
۳	<p>به سوالات زیر پاسخ دهید.</p> <p>الف - عدد هشتاد میلیون و نهصد و پنجاه هزار را با عدد بنویسید.</p> <p>ب - ارزش مکانی کدام رقم بیشتر است؟</p> <p>ج - رقم ۹ در چه طبقه ای قرار دارد؟</p>	۱/۵
۴	<p>برای شکل زیر یک کسر بزرگتر از واحد و یک عدد مخلوط بنویسید.</p> <p>کسر بزرگتر از واحد :</p> <p>عدد مخلوط :</p>	۱



			علامت $< = >$ بگذارید .										
۱	$\frac{4}{5} \square \frac{3}{5}$	$2\frac{3}{7} \square 5\frac{6}{9}$	$1 \square \frac{3}{3}$	$\frac{0}{6} \square \frac{1}{2}$	۵								
۱	$\frac{12}{16} =$	$\frac{45}{100} =$	کسرهای زیر را تا جایی که امکان دارد ساده کنید.		۶								
۱	<table border="1" style="display: inline-table; margin-right: 20px;"> <tr><td>۵</td><td></td></tr> <tr><td>۷</td><td>۲۱</td></tr> </table> <table border="1" style="display: inline-table;"> <tr><td>۴</td><td></td></tr> <tr><td>۱۲</td><td>۱۸</td></tr> </table>	۵		۷	۲۱	۴		۱۲	۱۸	جدول های تناسب زیر را کامل کنید.			۷
۵													
۷	۲۱												
۴													
۱۲	۱۸												
۱/۵	نسبت وزن مریم به مادرش مثل ۲ به ۸ است . اگر وزن هردوی آنها ۶۰ کیلوگرم باشد وزن هر یک چند کیلوگرم است ؟			۸									
۱/۵	$\begin{array}{r} ۴ \quad ۳۵' \quad ۵۱'' \\ + ۲ \quad ۲۰ \quad ۲۹ \\ \hline \end{array}$	حاصل جمع دو عدد مرکب زیر را بنویسید.		۹									
۱	زمینی است به شکل مستطیل که طول آن ۴۰۰ متر و عرض آن ۲۰۰ مترمربع است . مساحت این زمین چند هکتار است ؟			۱۰									
۱	منوچهر در ساعت ۲۰' ۳۵' ۷ از منزل خارج شد و در ساعت ۲۵' ۳۷' ۱۲ به منزل رسید . حساب کنید منوچهر چه مدت خارج از منزل بوده است ؟			۱۱									

عملیات زیر را انجام داده و جواب ها را به ساده ترین صورت بنویسید.

$$\frac{8}{9} - \frac{3}{9} =$$

$$\frac{4}{7} + \frac{3}{4} =$$

$$5\frac{7}{8} + 3\frac{2}{3} =$$

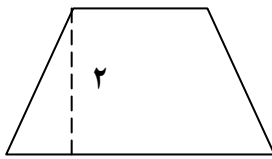
$$5 - 2\frac{4}{6} =$$

۳/۵

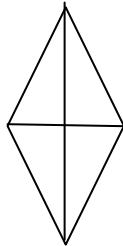
۱۲

مساحت شکل های مقابل زیر را حساب کنید.

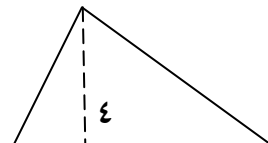
۳ سانتی متر



۵ سانتی متر



قطر بزرگ ۸ سانتی متر
قطر کوچک ۳ سانتی متر



۵ سانتی متر

۱/۵

۱۳

چند درصد شکل مقابل رنگی است؟



۱/۵

۱۴