



«به نام خدای شاپرک ها»

اسم من است . من از یاد گرفتن ریاضی لذت می برم .

۱) دختر نازم ، قسمت های مساوی را از هر طرف حذف کن و سپس علامت مناسب بگذار .

$200 + 50 + 50 + 200 + 100 + 20 + 30 + 7$ $100 + 8 + 100 + 10 + 200 + 20 + 100$

۲) علامت (=) بگذار (در جمع و تفریق ها ابتدا حاصل را به دست بیاور بعد جواب ها را باهم مقایسه کن .)

$.... = 670 - 200$ $500 + 60 =$ 867 887 123 93 $.... = 400 - 300$ $80 + 20 =$

۳) عزیزم ، ساعت مقابل را خوب نگاه کن و به سوالات پاسخ بده .

الف (ساعت چند است ؟)

ب (عقربه ی بزرگ چند دقیقه حرکت کند تا ساعت ۲ بشود ؟)

ج (اگر عقربه ی بزرگ یک ربع حرکت کند ساعت چند خواهد شد ؟)

(مقدار حرکت عقربه ی بزرگ را رنگ بزن)



۵) یک مستطیل بکش که درازای آن ۲۷ میلی متر و پهنای آن ۱ سانتی متر و ۵ میلی متر باشد .

۴) مینا با خط کش طول مداد رنگی هایش را اندازه گرفت .

مداد آبی ۱۴۷ میلی متر بود یعنی همان سانتی متر و میلی متر

مداد زرد ۹ سانتی متر و ۴ میلی متر بود یعنی همان میلی متر

۶) جمع و تفریق زیر را با رسم شکل انجام بده .

$$\begin{array}{r} 530 \\ - 287 \\ \hline \end{array}$$

$$\begin{array}{r} 367 \\ + 157 \\ \hline \end{array}$$

۷) سارا ۷۴۰ ریال داشت. یک مداد ۸۵ ریالی و یک دفترچه ی ۲۶۵ ریالی خرید چند ریال برایش باقی مانده است ؟

(الف)

(ب)

۸) الگوها را ادامه بده .
..... - - - - - - ۵۷۵ - ۵۸۰ - ۵۸۵ -

..... - - - - - - ۶۰ - ۱۶۰ - ۲۶۰ -

..... - - - - - - ۲۰ - ۲۱ - ۲۴ -

۹) قد محسن ۱۵۳ سانتی متر است . قد خواهرش مینا ۲۶ سانتی متر از او کوتاه تر است . قد خواهرش چند سانتی متر است ؟

۱۰) عددی سه رقمی هستیم که رقم یکانم ۲ ، صدگانم ۵ و دهگانم حاصل جمع یکان و صدگان است .

مرا به رقم و حروف بنویس . بارقم باحروف (از جدول استفاده کن)

* حالا با رقم های من بیشترین عدد سه رقمی را که می توان نوشت ، بنویس .

۱۱) حاصل این جمع و تفریق را به روش گسترده نویسی به دست بیاور .

$$\begin{array}{r} - ۸۵۷ \\ ۵۱۴ \\ \hline \end{array}$$

$$\begin{array}{r} + ۳۵۶ \\ ۴۲۳ \\ \hline \end{array}$$

نظر معلم :


موفق باشی



نام زیبایی: آزمون ریاضی پایه دوم / فروردین ماه /



دسته تایی



فرزند با هوشم با توجه به شکل کامل کن .

دسته تایی



ربع دایره را رنگ کن .



۳ قسمت از ۴ قسمت مساوی



۲ قسمت از ۶ قسمت مساوی



در یک سبد ۵ تا توپ صورتی و ۳ تا توپ آبی است .

..... توپ از توپ آبی است .
..... توپ از توپ صورتی است .

اگر بخواهیم یک توپ به طور شانسی از سبد برداریم احتمال توپ چه رنگی بیشتر است؟ چرا؟

iranmoshavere.com



ساعت و دقیقه است .

یعنی دقیقه مانده به است .

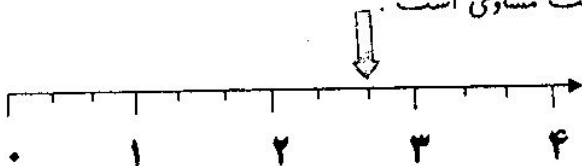
ده دقیقه قبل ساعت و بود .



با سه رقم ۸، ۵ و ۳ بزرگ ترین عدد سه رقمی را بنویس که دهگان آن کمترین یکانش باشد .

هر واحد این محور به قسمت مساوی تقسیم شده است .

یعنی نقطه ی مشخص شده واحد و قسمت از قسمت مساوی است .



جمع و تفریق های زیر را انجام بده .


۲۶۳	۶۹۲	۳۱۸	۴۰۷	۶۱۴
+ ۵۹	- ۷	+ ۲۹۸	- ۳۱۴	- ۱۸۵

به علامت ها توجه کن !

زینب ۱۲۸ ریال عیدی گرفته بود . حدیث ۴۵ ریال پیش تر عیدی دارد . عیدی های زینب و حدیث چند ریال است ؟

حدیث ریال عیدی دارد .

عیدی های زینب و حدیث ریال است .



در جای خالی عدد مناسب بنویس .

۳۹ میلی متر یعنی سانتی متر و میلی متر

۱۸ میلی متر یعنی سانتی متر و میلی متر

۷ سانتی متر یعنی میلی متر

۶ سانتی متر و ۸ میلی متر یعنی میلی متر

درسا ۳ سکه ۱۰ ریالی و ۲ سکه ۵ ریالی و ۶ سکه ۱ ریالی دارد . او یک مداد به قیمت ۱۸ ریال خرید . چند ریال

برای درسا باقی مانده است ؟



احساس دانش آموز از آزمون :

نظر آموزگار.....

مواردی که احتیاج به تمرین بیشتر داری.....