



« به نام خالق خوبی ها »

تنظیم: آموزگار پانزدهم دبستان

اسم من است. در کلاس دبستان درس می خوانم.

۱) نازنینم، با کارت های اعداد ۳ و ۵ و ۲ هر چه می توانی عدد سه رقمی بنویس.

تاریخ: ۹۶/۱۰/۹

.....

* حالا از بین عددهایی که نوشتی الف (بیشترین عدد و کمترین عدد را بنویس.

بیشترین عدد: با حروف: کمترین عدد: با حروف:

ب) رقم های یکان و دهگان بیشترین و کمترین عدد را حذف کن و یک تفریق برای آن بنویس.

بیشترین عدد با حذف رقم یکان و دهگان:

کمترین عدد با حذف رقم یکان و دهگان:

ج) عدد هایی را بنویس که حاصل جمع رقم های دهگان و صدگانش برابر با رقم یکان آن باشد.



.....




.....

۲) ساعت چند است؟

* نیم ساعت بعد از ساعت ۷:۲۰ ساعت چند می شود؟

* یک ساعت و ربع بعد از ساعت ۱:۴۵ ساعت چند است؟



۳) جمع و تفریق کن. $20 + 5 + 10 + 20 + 5 + 10 + 6 = \dots$ $6 + 9 = \dots$ $2 - 8 = \dots$ $7 + 5 = \dots$

$700 - 300 = \dots$ $80 - 30 = \dots$ 8 3 2 9

$20 + 40 = \dots$ $600 + 200 = \dots$

.....

.....



۴) نسترن در کیفش چهار سکه ی ۱۰۰ ریالی، دو سکه ی ۱۰ ریالی و هشت سکه ی ۱ ریالی دارد. او چند ریال پول دارد؟

با رقم: با حروف:

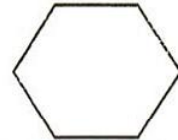

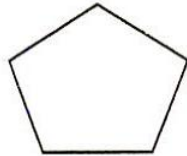
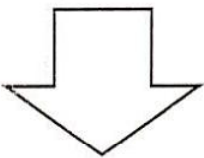
۵) الگوهای عددی را ادامه بده.

..... - - - - - ۴۸ - ۴۲ - ۳۶

..... - - - - - ۲۴ - ۲۱ - ۱۹ - ۱۸

..... - - - - - ۳۷۵ - ۳۷۰ - ۳۶۵

۶) با یک برش شکل های زیر را به دو قسمت مساوی تقسیم کن.



۷) عدد داخل دایره به چه عددی نزدیک تر است؟ اعداد مربوطه را بنویس و مربع درست را رنگ بزن

۳۶۰ ← (۳۶۷) →

← (۵۸۱) →

۸) رضا به پدرش در کارگاه نجاری کمک می کند. او در ماه گذشته ۱۸ میز ساخت و پدرش ۲۵ میز آنها چند میز ساخته اند؟


.....

اگر ۲۷ تایی آنها را بفروشند چند میز برایشان باقی می ماند؟

iranmoshavere.com

.....

۹) یک عدد سه رقمی بنویس که ۵ صدتایی و ۷ ده تایی داشته باشد. (در جدول)

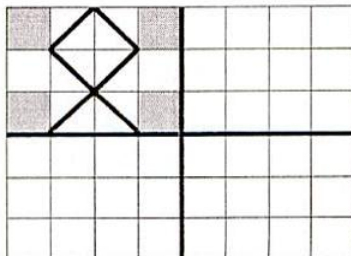


بارقم باحروف

حالا این عدد را در مربع قرار بده. ده تا ده تا بشمارو جاهای خالی را پر کن



۱۰) کاشی کاری را طوری کامل کن که ۴ قسمت شکل کاملاً مثل هم باشند.



نظر معلم :

