



۱- مداد زیر را با خط کش اندازه بگیر و جمله ها را کامل کن .



اندازه ی طول مداد سانتی مترو میلی متر است .

اندازه ی طول مداد سانتی مترو قسمت از ۱۰ قسمت مساوی است .

۲- جاهای خالی را کامل کن .

عدد ۳۶ را می توان به صورت ده تایی و قسمت از ۱۰ قسمت بیان کرد.

عدد ۱۲ را می توان به صورت ده تایی و قسمت از ۱۰ قسمت بیان کرد.

عدد ۷ را می توان به صورت ده تایی و قسمت از ۱۰ قسمت بیان کرد.

۳- کیک تولد ریحانه به ۸ قسمت مساوی تقسیم شده است . ۲ قسمت را پدر و ۱ قسمت را مادر و ۳ قسمت

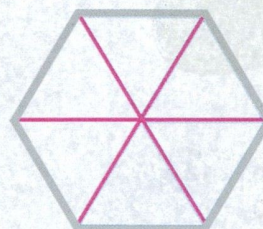


را ریحانه و برادرش خوردند . حالا بگو :

..... قسمت از ۸ قسمت مساوی کیک تولد خورده شده است.

..... قسمت از ۸ قسمت مساوی کیک تولد هنوز باقی مانده است.



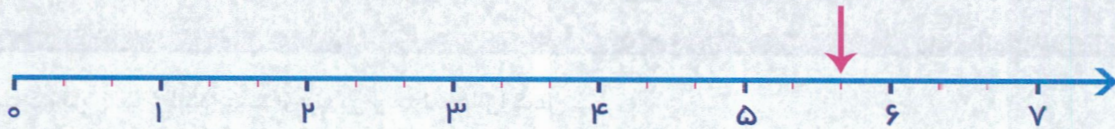
۴- با توجه به کسر نوشته شده شکل را رنگ بزن .



۱ قسمت از ۶ قسمت مساوی ۸ قسمت از ۱۲ قسمت مساوی ۳ قسمت از ۴ قسمت مساوی



۵- در این محور هر واحد به ۳ قسمت مساوی تقسیم شده است.



نقطه‌ی مشخص شده واحد و قسمت از قسمت مساوی را نشان می‌دهد.

۶- قد حمید ۱۸۲ سانتی متر است. مادرش ۲۸ سانتی متر از او کوتاه تر است.

قد مادر حمید چند سانتی متر است؟

قد هر دوی آن‌ها روی هم چند سانتی متر است؟

۷- با توجه به شکل، جاهای خالی را کامل کن.

..... دسته‌ی تایی می‌شود



..... دسته‌ی تایی می‌شود

۸- در داخل هر کیسه، یک مهره قرمز وجود دارد. بدون نگاه کردن به داخل کیسه‌ها، در کدام کیسه

شانس بیرون آمدن مهره‌ی قرمز بیشتر است؟



(پ)



(ب)



(الف)

۹- ساعت چند است؟ ساعت و دقیقه



قسمت رنگ شده‌ی ساعت چه کسری از صفحه‌ی ساعت است؟

..... قسمت از قسمت مساوی.

فرزندم با تلاش، کوشش و توکل به خدا موفق خواهی شد.



نیاز به تلاش بیشتر



قابل قبول



خوب



خیلی خوب