

نوبت اول

به نام ایزد یکتا

نام:

مدرسه:

آزمون مداد کاغذی

نام خانوادگی:

آموزگار:

ریاضی دوم دبستان

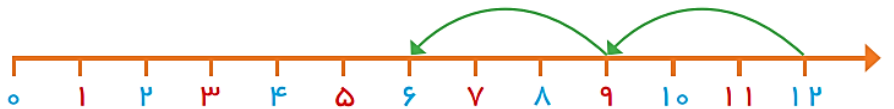
کلاس:

۲- با خط کش عددهای مثل هم را به هم وصل کنید.



۳- با کمک محور رو به عقب بشمارید و الگو را کامل کنید.

.....,,, ۹, ۱۲



عددهای دو رقمی بنویسید که یکان آن ها ۲ و ۴ و دهگان آن ها ۸ و ۵ باشد.

--	--	--	--


جاهای خالی را با توجه به الگوی آن پر کنید:

۱۷ - ۱۸ - ۱۹ - - - -

- - - سی و شش - سی و هفت - سی و هشت - سی و نه

حاصل جمع و تفریق ها را به دست آورید

$\begin{array}{r} ۴۶ \\ - ۱۶ \\ \hline \end{array}$	$\begin{array}{r} ۲۴ \\ + ۲۴ \\ \hline \end{array}$	$\begin{array}{r} ۶۱ \\ - ۴۶ \\ \hline \end{array}$	$\begin{array}{r} ۳۳ \\ + ۹۲ \\ \hline \end{array}$
---	---	---	---



.....

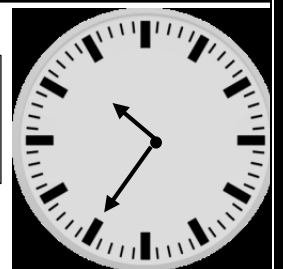
۸:۱۵



یک ربع مانده به چهار

.....

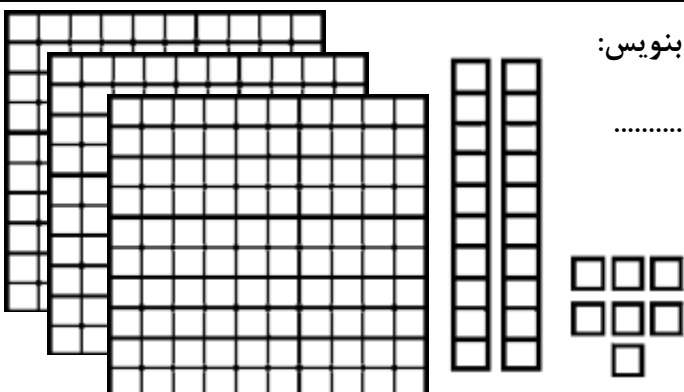
.....

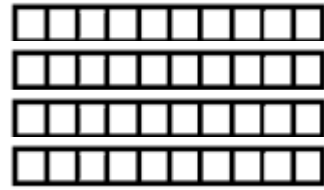


عددی که شکل نشان می دهند در جدول قرار بده و به حروف بنویس:

..... به حروف:

یکان	دهگان	صدگان



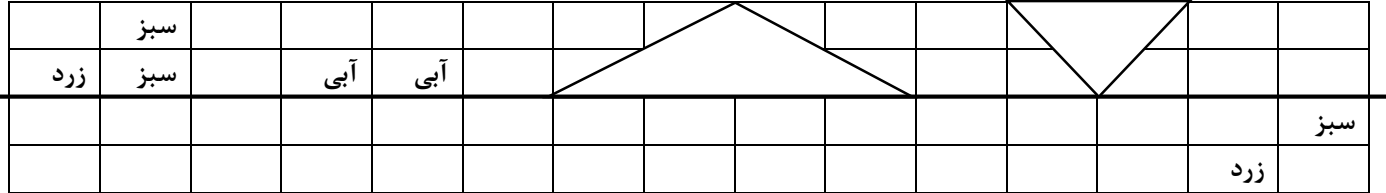


به حروف :

دهگان

یکان

با توجه به خط تقارن نیمه دیگر شکل را بکش



۲- جواب جمع و تفریق‌ها را به صورت تقریبی به دست آورید.

$$\begin{array}{r} 53 \rightarrow \text{.....} \\ + 29 \rightarrow + \text{.....} \\ \hline \end{array}$$

$$\begin{array}{r} 68 \rightarrow \text{.....} \\ - 41 \rightarrow - \text{.....} \\ \hline \end{array}$$

$$\begin{array}{r} 29 \rightarrow \text{.....} \\ + 49 \rightarrow + \text{.....} \\ \hline \end{array}$$

دویست و دوازده

۵۶۷

به عدد یا حروف بنویس:

۱۰۵

چهارصد بیست و دو

با سه کارتی که بر روی آن‌ها عددهای ۴ - ۶ - ۲ نوشته شده است تمام عددهای دو رقمی را که می‌توانی بنویس


۲

۴

۶

مقدار پول را به عدد مشخص کن و در جدول قرار بده

صدگان	دهگان	یکان
.....



ارزشیابی	خ	خ	ق	ق	ن	ارزشیابی	خ	خ	ق	ق	ن
شناخت اعداد						رسم تقارن					
الگویابی						تقریب زدن					
عدد و رقم						حروف نویسی					
جمع و تفریق						ساخت عدد					
ساعت						شمارش پول					

موفق باشی عزیزم