

دبستان دخترانه غیر دولتی ترفج دانش



نام درس: ریاضی

کلاس: (رسم)

نام و نام خانوادگی:

تاریخ: ۱۳۹۱، ۳، ۵

نام آموزگار: کرمی

۱- با کارت‌های ۴ و ۳ و ۷ تمام عددهای سه رقمی را بنویس، کوچکترین و بزرگترین را مشخص کن.

بزرگترین:

کوچکترین:

با عدد و حروف بنویسید.

	صد و دو	۹۱۰	
	ششصد و نود و سه	۷۳۸	

۲- در جای خالی، عدد مناسب بنویس.

الف) ۱۵ میلی‌متر، همان سانتی‌متر و میلی‌متر است.

ب) ۳۰ میلی‌متر، همان سانتی‌متر است.

۳- قد لیلا ۱۳۸ سانتی‌متر است، خواهرش فاطمه ۱۵ سانتی‌متر از او بلندتر است،


قد این دو نفر روی هم چند سانتی‌متر است؟

۴- علی ساعت ۷ و ۴۵ دقیقه از منزل خارج می‌شود و

یک ربع بعد به مدرسه می‌رسد. علی چه ساعتی به

مدرسه می‌رسد، با رسم شکل نشان دهید.

۵- برای شکل زیر یک جمله بنویس.



..... تا تایی می‌شود

دبستان دخترانه غیر دولتی تونج دانش



نام درس:

کلاس:

نام و نام خانوادگی:

تاریخ:

نام آموزگار:

✓ _ هر طبقه‌ی ساختمان با ۶ چینه درست شده است. یک ساختمان ۳ طبقه چند چینه دارد؟

۸ - جدول زیر را کامل کنید.

				شکل
				نام شکل
				تعداد ضلع

۹ - حاصل جمع و تفریق زیر را بدست آورید.

$$\begin{array}{r} ۶۱۰ \\ - ۲۷۰ \\ \hline \end{array}$$

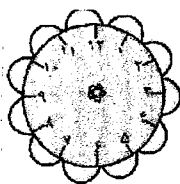
$$\begin{array}{r} ۴۲۶ \\ + ۳۳۵ \\ \hline \end{array}$$

۱۰ - در کیسه‌ای ۸ مهره‌ی قرمز، ۶ مهره‌ی نارنجی، ۴ مهره‌ی سبز و ۲ مهره‌ی آبی وجود دارد.

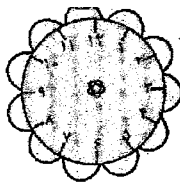
(الف) شانس بیرون آمدن چه رنگی از همه بیش‌تر است؟

(ب) شانس بیرون آمدن چه رنگی از همه کم‌تر است؟

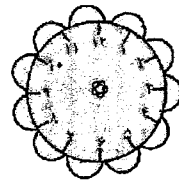
زمان‌های مشخص شده را روی ساعت نشان بده. (با کشیدن عقربه‌ها)



۵:۱۵



۶:۴۰



۹:۳۰

۱۱ -

تعداد دانش‌آموزان یک مدرسه در جدول زیر آمده است.

تعداد دانش‌آموزان را به صورت تقریبی در جدول زیر بنویس.

ششم	پنجم	چهارم	سوم	دوم	اول	کلاس
۲۶	۲۴	۱۷	۱۴	۳۷	۲۷	تعداد دانش‌آموزان
						تعداد تقریبی

۱۲ -

اگر هر ۱۰ دانش‌آموز را با 😊 نشان دهیم، نمودار زیر را کامل کن.

