



آمادگی و دبستان غیردولتی دخترانه روش نوین

ارزشیابی ریاضی دوم دبستان

تاریخ: ۱۳۹۷ / ۲ / ۱۷

نام و نام خانوادگی: .....

۱- در یک خیابان روی هم ۶ ماشین و دوچرخه وجود دارد. آن ها روی هم ۱۶ چرخ دارند. در این خیابان چند ماشین و چند تا دوچرخه است؟

۲- الف) خط زیر چند سانتی متر است؟

ب) برای اندازه گیری این خط چه کارهایی انجام می دهی؟

۳- سینا یک کتاب ۴۵۰ صفحه ای داشت. روز اول ۲۱۰ صفحه از کتاب را خواند. روز بعد ۱۰۰ صفحه از کتاب را خواند. چند صفحه از کتاب باقی مانده است؟

iranmoshavere.com

۴- حاصل جمع و تفریق های زیر را با رسم شکل بدست آورید.

۲۲۷


+۳۴۸

۵۴۸

-۲۲۹


۵- در یک کیسه ۲ مهره ی قرمز ، ۵ مهره ی آبی و ۶ مهره ی سبز وجود دارد . احتمال بیرون آمدن کدام مهره از بقیه کمتر است ؟ چرا ؟

۶- عبارت مربوط به نقطه ی مشخص شده در محور زیر را بنویس .



نقطه ی مشخص شده ..... واحد و ..... قسمت از ..... قسمت مساوی را نشان می دهد .

۷- ساعت چند است ؟




ب) اگر عقربه ی بزرگ ۲۵ دقیقه به جلو حرکت کند ، ساعت چند می شود ؟

۸- در کتابخانه کلاس ما ۴ کتاب کمک درسی ، ۷ کتاب شعر و ۲ کتاب داستان وجود دارد . عزیزم نمودار ستونی مربوط به کتابخانه ی کلاسمان را رسم کن .



۹- برای شکل زیر ۲ جمله بنویس .



..... تا ..... تایی می شود .....

..... تا ..... تایی می شود .....

۱۰- دختر گلم جاهای خالی را کامل کن .

