


شاهپرانم - پایه دوم

۵. با سه رقم ۵ و ۴ و ۳ کم ترین و بیش ترین عدد سه رقمی را بساز.



۶. خط تقارن شکل های زیر را بکش.



۷. الگوهای عددی زیر را ادامه بده.

۳. ۶. ۹.

۱۵. ۲۵. ۳۵.

۹. ۱۰. ۱۲. ۱۵.

۳۰۰. ۴۰۰. ۵۰۰.

۸. حاصل جمع و تفریق زیر را با حذف رقم یکان و دهگان به دست آور.

$$\begin{array}{r} ۶۹۳ \rightarrow \dots \\ -۴۳۵ \rightarrow \dots \\ \hline \rightarrow \dots \end{array}$$

$$\begin{array}{r} ۵۲۴ \rightarrow \dots \\ +۴۱۷ \rightarrow \dots \\ \hline \rightarrow \dots \end{array}$$

iranmoshaver.com

۹. نام هر شکل را داخل آن بنویس. سپس تفاوت و شباهت آن ها را بنویس.



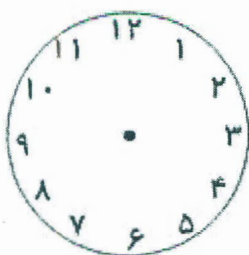
شباهت :

تفاوت :

۱۰. مراسم صبحگاه مدرسه هر روز صبح ساعت ۷ و نیم آغاز می شود.


الف) این زمان را روی ساعت نشان بده.

ب) ۲ ساعت بعد ساعت چند می شود؟



سادهای ریاضی

۱۱. در قلک فاطمه ۳ سکه ۱۰۰ ریالی و ۵ سکه ۱۰ ریالی بود. او چند ریال در قلک داشت؟ با رسم شکل به دست آور.



۱۲. با رقم های ۶ و ۹ و ۳ به تمام عددهای سه رقمی را بنویس. (بدون تکرار)

حالا با توجه به اعداد سه رقمی که نوشته ای کدام عددها هستند که جمع رقم یکان و صدگان آن ها برابر رقم دهگان است؟

۱۳. اگر ۵۰ سکه ۱ ریالی به بانک بدهی، چند سکه ۱۰ ریالی می توانی بگیری؟ (با رسم شکل)




iranmoshavere.com

۱۴. دانش آموزان دبستان فاطمیه ۵۴۷ نفر و دبستان الغدیر ۳۷۰ نفر هستند. با حذف رقم یکان و دهگان به طور تقریبی هر دبستان چند

دانش آموز دارد؟ تعداد دانش آموزان کدام مدرسه بیش تر است؟

تعدد دانش آموزان مدرسه ی بیش تر است.



۱۵. در شکل زیر کدام یک از رقم ها وجود ندارد؟

ب) ۶ و ۹

الف) ۳ و ۵

د) ۷ و ۱

ج) ۴ و ۸

سوال شماره ۱۵

