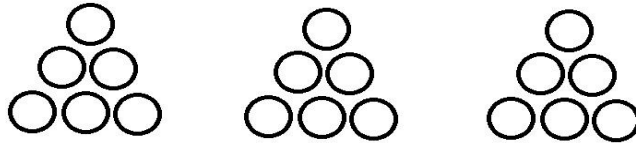


| به نام خدا | |
|---------------------|---|
| نام و نام خانوادگی: | دبستان غیردولتی پسرانه ابوذر |
| آزمون جامع ریاضی | هدف: ارزیابی از کل مفاهیم کتاب ریاضی |
| پایه دوم | مورخ: |
| ۱ | با اعداد ۵ و ۷ و ۸ سه عدد فرد سه رقمی بنویسید. تکرار رقم اشکالی ندارد. |
| ۲ | جمع و تفریق های زیر را انجام دهید. $20 + 45 + 5 + 100 =$ روش گسترده $\begin{array}{r} 34 \\ + 23 \\ \hline \end{array}$ روش تکنیکی $\begin{array}{r} 545 \\ + 289 \\ \hline \end{array}$ $\begin{array}{r} 645 \\ - 293 \\ \hline \end{array}$ |
| ۳ | با توجه به محور زیر، به سوالات زیر پاسخ دهید. iranmoshavere.com  الف) هر واحد از محور به قسمت مساوی تقسیم شده است. ب) نقطه ی مشخص شده واحد و قسمت از مساوی است. |
| ۴ | در جای خالی عدد مناسب بنویسید. ۹۰۷ برابر است با یکی و ده تایی و صدتایی. یک عدد سه رقمی بنویسید که صدگان آن بزرگتر از یکان و دهگان یک عدد زوج باشد. به هر ۱۵ دقیقه یک و ۳۰ دقیقه را ساعت می گویند. |

۵ در جای خالی عدد مناسب بنویسید.



..... دسته ی تایی

۶ محمد ۱۷۵ ریال دارد. برادرش ۶۵ ریال کمتر دارد. این دو برادر روی هم چند ریال دارند؟

۷ تعداد کتاب های کتابخانه ی دبستان ما در موضوعات مختلف به شرح زیر است. اگر هر ۱۰۰ کتاب را با یک نشان دهیم. با توجه به جدول نمودار را کامل کنید.



iranmoshavere.com

۸ تقریب اعداد زیر را بنویسید.

۳۱ →




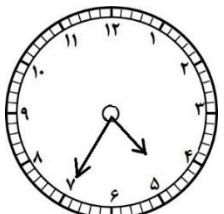







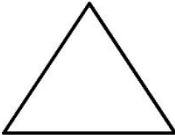
۵۹ →

۷۸ →

۲۵ →

۹ در کدام کیسه احتمال بیرون آمدن مهره سیاه بیشتر است؟ علامت بزنید.



| | |
|--|-------------------|
| <p>طبق عدد زیر آنها به قسمت های مساوی تقسیم کنید.</p> <div style="display: flex; justify-content: space-around; align-items: center;"> <div style="text-align: center;">  <p>۳</p> </div> <div style="text-align: center;">  <p>۶</p> </div> <div style="text-align: center;">  <p>۲</p> </div> </div> | ۱۰ |
| <p>عقربه بزرگ چند دقیقه حرکت کند تا ساعت ۵ شود؟</p>  | ۱۱ |
| <p>در یک مزرعه روی هم ۴ تا شتر مرغ و گوسفند هستند. آن ها روی هم ۱۴ پا دارند. در این مزرعه چند تا شتر مرغ و چند تا گوسفند است؟</p> | ۱۲ |
| <p>این سکه ی ۵۰۰ ریالی برابر است با کدام سکه ها؟ در <input type="checkbox"/> علامت بزنید.</p> <div style="display: flex; justify-content: center; align-items: center; gap: 20px;"> <div style="text-align: center;">  <p>۵۰۰</p> </div> <div style="text-align: center;">=</div> <div style="text-align: center;">  <p>۲۵۰ ریال</p> <input type="checkbox"/> </div> <div style="text-align: center;">  <p>۵ ریال</p> <input type="checkbox"/> </div> <div style="text-align: center;">  <p>۲ ریال</p> <input type="checkbox"/> </div> <div style="text-align: center;">  <p>۲۰۰ ریال</p> <input type="checkbox"/> </div> <div style="text-align: center;">  <p>۲۵۰ ریال</p> <input type="checkbox"/> </div> </div> | ۱۳ |
| <p>یک تفاوت و یک شباهت برای دو شکل بنویسید.</p> <div style="display: flex; justify-content: space-around; align-items: center; margin-top: 20px;">   </div> <p style="text-align: right; margin-top: 20px;">تفاوت:</p> <p style="text-align: right; margin-top: 20px;">شباهت:</p> | ۱۴ |
| | نظر نهایی آموزگار |
| | نظر خانواده |