

عدد درست را علامت بزن



۱ ۲ ۳



۳ ۲ ۱



۵ ۴ ۳

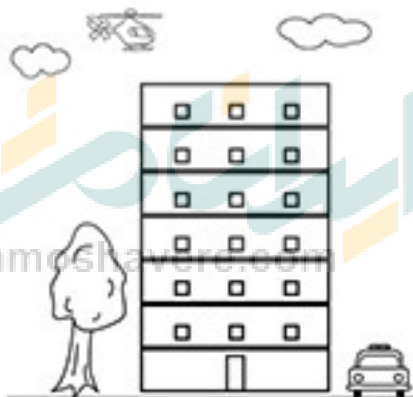


۴ ۳ ۵

کدامیک به سمت راست می رود؟ رنگ بز





هر چیزی که در سمت چپ ساختمان است رنگ بز




کدام حیوان در سمت راست خانه است علامت بز








۵



۴



۳




۵



۲

ایستگاه
ianmoshavere.com

دور گروهی که نارنگی بیشتری دارد دایره بکش



دور گروهی که سیب کمتری دارد دایره بکش

