

۱. یک عدد چهاررقمی بنویسید که رقم یکان آن ۶، دهگان ۸، صدگان ۵ و هزارگان ۵ باشد.

به عدد: _____ به حروف: _____

۲. الگوی شمارش رو به عقب کامل کنید.

۴۲ و ۳۵ و ۲۸ و _____ و _____ و _____

۳. جمع و تفریق های زیر را که واحد ریال هستند به واحد تومان تبدیل کنید.

الف: $۳۰۰ = ۱۷۰ - ۴۷۰$ →

ب: $۷۴۸۰ = ۳۲۳۰ - ۴۲۵۰$ →

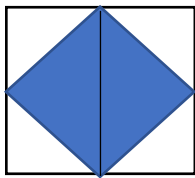
۴. جاهای خالی را کامل کنید.

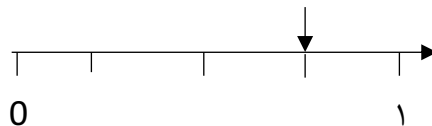
آ: عدد _____ یعنی ۳ هزار تایی و ۴ ده تایی

ب: ۱۳۸ سانتی متر یعنی _____ متر و _____ سانتی متر

ج: ۶۰۰۰ متر چند کیلومتر است _____

۵. برای شکل و محور زیر کسر بنویسید.





۶. بهترین وسیله برای کشیدن دایره _____ است.

آ: گونیا ب: پرگار ج: نقاله د: خط کش


۷. یک کیلومتر چند تا ۱۰۰ متر است؟

آ: ۱۰ تا ب: ۲۰ تا ج: ۵ تا د: ۳۰ تا

۸. عدد های زیر را روی محور نشان دهید.

$$\frac{2}{4} \text{ واحد بعد از عدد } 3$$

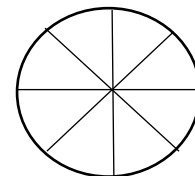
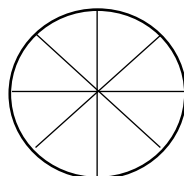
۹. با کامل کردن شکل نشان دهید که $\frac{2}{4} = \frac{4}{8}$



۱۰. در \bigcirc علامت $>$ یا $<$ یا $=$ قرار دهید.

آ: ربع \bigcirc نصف

ب: $\frac{1}{3} \bigcirc \frac{2}{6}$



ج:

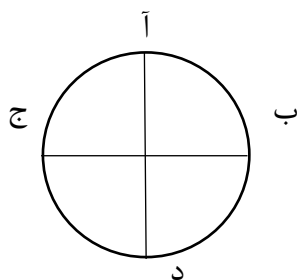
۱۱. در شکل مقابل چند زاویه راست وجود دارد.

ج: ۴ \bigcirc

آ: ۳ \bigcirc

د: زاویه راست وجود ندارد. \bigcirc

ب: ۸ \bigcirc



۱۲. باز شده جمع زیر را بنویسید.

$$8945 = \underline{\hspace{2cm}}$$

۱۳. کدام ضرب الگوی شمارش را کامل می کند.

۴ و ۸ و ۱۲ و ۱۶ و ۲۰ و _____

آ: $6 \times 4 = 28$ ب: $7 \times 4 = 28$ ج: $5 \times 4 = 20$ د: $6 \times 4 = 24$

۱۴. جاهای خالی را با عدد مناسب پر کن.

آ: $5 \times 2 = \bigcirc \times 5$ ب: $18 \div 3 = \bigcirc$ ج: $15 \div \bigcirc = 3$ د: $\bigcirc \times 3 = 27$

۱۵. حاصل ضرب های زیر با روش خواسته شده بدست آورید.

آ: روش جمع $\leftarrow 4 \times 5 = \underline{\hspace{2cm}}$

ب: روش شکل $\leftarrow 6 \times 3 = \underline{\hspace{2cm}}$

۱۶. تساوی زیر را روی محور نشان دهید.

$2 \times 4 = 4 \times 2$: \longrightarrow

موفق و پیروز باشید.

سال تحصیلی ۱۴۰۱-۱۴۰۲

- کلیدواژه ارزشیابی ریاضی نوبت اول (پایه سوم ابتدایی دبستان سرای دانش)

۱. به عدد: ۵۰۸۶ به حروف: پنج هزار و هشتاد و شش

۲. ۲۱ و ۱۴ و ۷

۳.

الف: $47 - 17 = 30$

ب: $425 + 723 = 748$

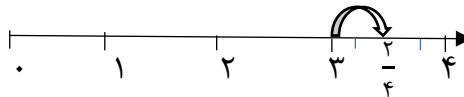
۴. آ: ۳۰۴۰ ب: ۱ متر و ۳۷ سانتی متر ج: ۶

۵. محور: $\frac{3}{4}$ شکل: $\frac{2}{6}$


۶. (گزینه ب) پرگار

۷. (گزینه آ) ۱۰ تا

۸.



۹.



۱۰. آ: ربع > نصف

ب: $\frac{1}{3} > \frac{2}{6}$

ج: $\frac{2}{8} < \frac{4}{8}$

۱۱. (گزینه ج) ۴ تا

۱۲.

جواب: $8000 + 900 + 40 + 5$

سال تحصیلی ۱۴۰۱-۱۴۰۲

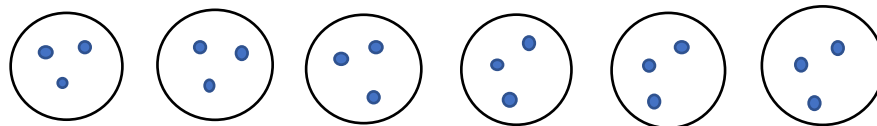
- کلیدواژه ارزشیابی ریاضی نوبت اول (پایه سوم ابتدایی دبستان سرای دانش)

۱۳. (گزینه د) $6 \times 4 = 24$

۱۴. آ: ۲ ب: ۶ ج: ۵ د: ۷

۱۵. روش جمع: $5 + 5 + 5 + 5$

روش شکل:



۱۶.

