


سؤالات

نقطه

با توجه به شکل مقابل عدد را در جدول ارزش مکانی دهید و آن را به حروف بنویسید.



۱

مغازه داری یک شیشه شیر را ۲۰۰ تومان میخرد و ۲۳۰ تومان میفروشد.

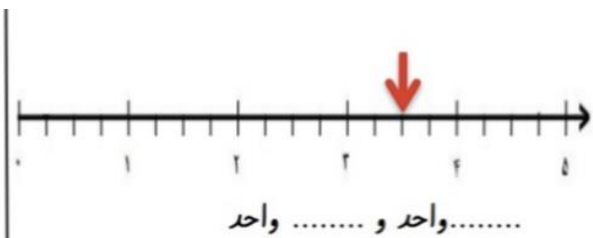
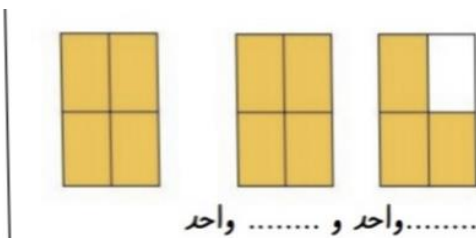
الف) سود هر شیشه شیر را حساب کنید.

ب) ۵ شیشه شیر چقدر سود دارد؟

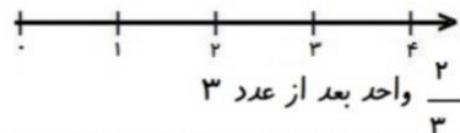
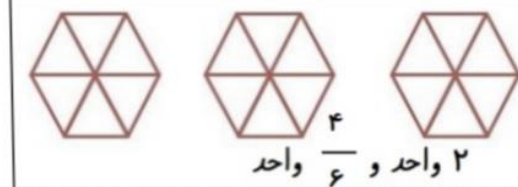
۲

شیشه شیر					
سود					

جاهای خالی را با عدد مناسب و شکل ها را با رنگ کامل کنید



۳



اعداد زیر را به صورت گسترده بنویسید.

$2149 = \dots\dots\dots$

$9083 = \dots\dots\dots$

۴

جای خالی را کامل کنید.

۵

* ۳۵۶ سانتی متر یعنی متر و سانتی متر.

* ۷ کیلومتر یعنی متر.


* یک ربع ساعت ساعت است .

* ۹ متر و ۱۵ سانتی متر یعنی سانتی متر.

* ۶۹۰۰ گرم برابر است با کیلوگرم و گرم.

با کامل کردن شکل نشان دهید که $\frac{2}{5} = \frac{4}{10}$ است.

۶



مقایسه کنید < = >

1 $\frac{7}{7}$

۴ واحد و $\frac{1}{2}$ واحد ۵ واحد و $\frac{1}{5}$ واحد

۷

ثلث خمس

$\frac{2}{5}$ $\frac{2}{7}$

$\frac{3}{10}$ $\frac{6}{10}$

زاویه و خط تقارن شکل زیر را مشخص کنید. و بنوسید زاویه مربع چه نوع زاویه ای است؟



۹

۳ دلار کشوری معادل ۳۰۰ تومان است، ۵ دلار چند تومان ارزش دارد؟

۱۰

دلار					
تومان					



اداره ی کل آموزش و پرورش شهر تهران
 اداره ی آموزش و پرورش شهر تهران منطقه ۷ تهران
 دبستان غیر دولتی پسرانه سرای دانش واحد شریعتی
کلید سؤالات ترم نوبت اول سال تحصیلی ۱۴۰۲-۱۴۰۱

نام درس: ریاضی
 نام دبیر:
 تاریخ امتحان: ۱۷ / ۱۰ / ۱۴۰۱
 ساعت امتحان: صبح / عصر
 مدت امتحان: دقیقه

محل مهر یا امضاء مدیر

راهنمای تصحیح

ردیف

یکان	دهگان	صدگان	هزارگان
۰	۴	۳	۱

۱

هزار و سیصد و چهل

شیشه شیر	۱	۲	۳	۴	۵
سود	۳۰	۶۰	۹۰	۱۲۰	۱۵۰

۲

سود هر بسته ۳۰ تومن است

<p>۱... واحد و ۲... واحد و $\frac{1}{4}$ واحد</p>	<p>۳... واحد و $\frac{2}{4}$ واحد</p>
<p>۲ واحد و $\frac{4}{6}$ واحد</p>	<p>$\frac{2}{3}$ واحد بعد از عدد ۳</p>

۳

$$2149 = 2000 + 100 + 40 + 9$$

$$9083 = 9000 + 80 + 3$$

۴

❖ ۳ متر و ۵۶ سانتی متر

❖ ۷۰۰۰ متر

❖ $\frac{1}{4}$ ساعت

۵

❖ ۹۱۵ سانتی متر
❖ ۶ کیلوگرم و ۹۰۰ گرم

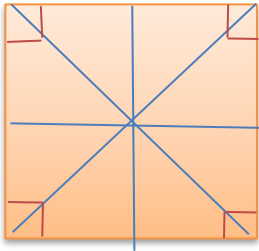


۶

$$\frac{2}{5} > \frac{2}{7} \quad \frac{3}{10} < \frac{6}{10} \quad 1 = \frac{7}{7}$$

7

۴ واحد و $\frac{1}{2}$ واحد > ۵ واحد و $\frac{1}{5}$ واحد > ثلث < خمس



مربع ۴ زاویه راست دارد و ۴ خط تقارن

8

دلار	1	2	3	4	5
تومان	100	200	300	400	500

9

با توجه به اینکه ۳ دلار کشوری ۳۰۰ تومان ارزش دارد پس ۱ دلار آن ۱۰۰ تومان است، در نتیجه ۵ دلار آن ۵۰۰ تومان ارزش دارد

امضاء:

نام و نام خانوادگی مصحح :