



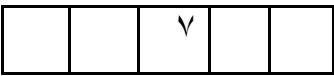

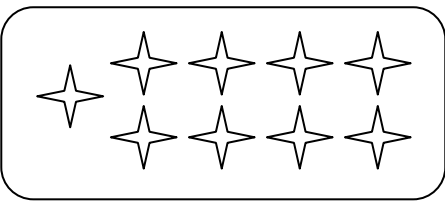








به نام خدا	نام و نام خانوادگی :	درس: ریاضی	پایه اول دبستان	خرداد																					
سوالات																									
۱	سیب سمت چپ را ضربدر بزنیید.		.۵/																						
۲	یک گردی در خارج خط بسته بکش.		.۵/																						
۳	شکلی که مثل بقیه نیست خط بزنی.		.۵/																						
۴	دور اعداد مناسب خط بکش.	$\begin{array}{ccc} \text{🍏} & \text{🍏} & \text{🍏} \\ ۳ & + & ۳ = \end{array}$ $\begin{array}{ccc} \text{❤️} & \text{❤️} & \text{❤️} & \text{❤️} & \text{❤️} \\ ۴ & + & ۵ = \end{array}$ $\begin{array}{ccc} \text{🍏} & \text{🍏} & \text{🍏} \\ ۳ & + & ۲ = \end{array}$	۱																						
۵	بین دو عدد یکی از علامتهای $<$ $=$ $>$ را که مناسب است بگذار.	$۷ \square ۳$ $۸ \square ۴$ $۱ \square ۰$ $۹ \square ۹$	۲																						
۶	خط راست را پر رنگ کن.		۱																						
۷	اعداد قبیل وبعد عدد نوشته شده را بنویس.		۱																						
۸	جمع و تفریق کن.	$۲+۵=$ $۷+۰=$ $۸-۲=$ $۴-۳=$ $۱۰-۵=$ $۳+۶=$	۳																						
۹	در جدول و جاهای خالی عدد مناسب بنویس.	<table border="1" data-bbox="276 2011 1334 2123"> <tr> <td></td> <td></td> <td></td> <td>۵</td> <td></td> <td></td> <td></td> </tr> <tr> <td>۲</td> <td></td> <td></td> <td></td> <td></td> <td></td> <td></td> </tr> <tr> <td></td> <td>۱</td> <td></td> <td></td> <td></td> <td></td> <td></td> </tr> </table>				۵				۲								۱						۲	
			۵																						
۲																									
	۱																								

	<p>در خانه های خالی عدد مناسب را بنویس</p>  <p style="text-align: center;">○ ○</p>	۱۰																				
	<p>خانه های خالی را به طور مناسب پر کن</p> <table border="1" style="width: 100%; text-align: center;"> <tr> <td>۱</td> <td></td> <td></td> <td></td> <td>۵</td> <td></td> <td></td> <td></td> <td></td> <td>۱۰</td> </tr> <tr> <td></td> <td></td> <td>سه</td> <td></td> <td></td> <td>شش</td> <td></td> <td>هشت</td> <td></td> <td></td> </tr> </table>	۱				۵					۱۰			سه			شش		هشت			۱۱
۱				۵					۱۰													
		سه			شش		هشت															
۱/۵	<p>۶ سیب در بشقاب بود.</p> <p>۲ تا از آن ها را برداشتیم .</p> <p>چند سیب در بشقاب مانده است؟</p> <p>..... سیب در بشقاب مانده است.</p>	۱۳																				
۱/۵	<p>زهرا دیروز ۴ صفحه از کتابش را خواند.</p> <p>امروز هم ۳ صفحه ی دیگر از همان کتاب را خواند.</p> <p>زهرا دیروز و امروز چند صفحه از کتابش را خوانده است.</p> <p>..... صفحه از کتابش را خوانده است.</p>	۱۴																				
	<p>در هر قسمت خط های لازم را بکش و در جاهای خالی عدد مناسب را بنویس</p> <div style="display: flex; justify-content: space-around; align-items: center;"> <div style="border: 1px solid black; border-radius: 15px; padding: 10px; text-align: center;">  </div> <div style="text-align: center;">  </div> </div> <p style="text-align: center;">۹ &gt;</p>	۱۵																				
	<p>تفریق های زیر را انجام بده</p> <div style="display: flex; justify-content: space-around; align-items: center;"> <div style="text-align: center;">  <p>۴ - ۱ =</p> </div> <div style="text-align: center;">  <p>۶ - ۳ =</p> </div> </div>	۱۶																				

۱۷	بین دو عدد یکی از علامتهای < = > را که مناسب است بگذار. ۹ ۷ ۷ ۳ ۸ ۸ ۹ ۵ ۴ ۲	
۱۸	دسته ی ۷ تایی و ۵ تایی و ۳ تایی   	
۱۹	تفریق زیر را انجام بده $۹ - ۲ =$ $۷ - ۳ =$ $۱۰ - ۹ =$ $۶ - ۴ =$	
۲۰	جمع زیر را انجام بده $۲ + ۰ =$ $۳ + ۴ =$ $۱ + ۸ =$ $۷ + ۳ =$	